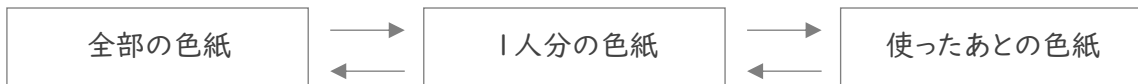


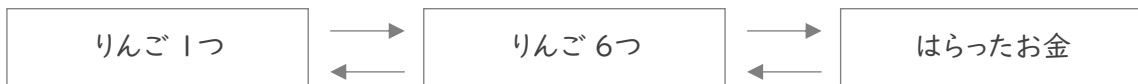
■ 次の各問いに答えましょう。

- ① りつさんたちは、色紙を 7人 で同じ数ずつに分けたあと、りつさんは 6まい を使いました。
りつさんの残りの色紙が 19まい のとき、分ける前の色紙は全部で何まいでしたか。



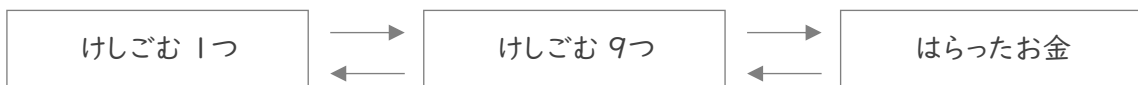
(式)

- ② りんごを 6つ 買って、4円 のふくろに入れてもらい、748円 はらいました。
りんご1つのねだんは何円ですか。



(式)

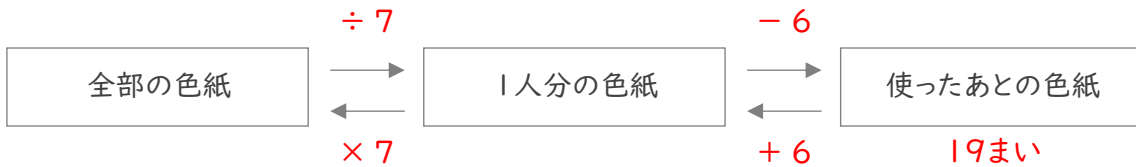
- ③ けしごむを 9つ 買って、40円 安くしてもらって、500円 はらいました。
けしごむ1つのねだんは何円ですか。



(式)

■ 次の各問いに答えましょう。

- ① りつさんたちは、色紙を 7人 で同じ数ずつに分けたあと、りつさんは 6まい を使いました。
りつさんの残りの色紙が 19まい のとき、分ける前の色紙は全部で何まいでしたか。



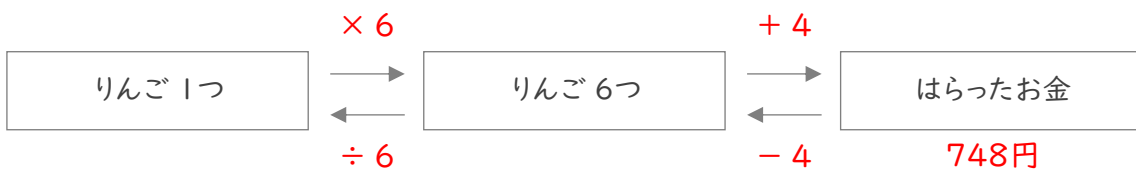
(式)

$$19 + 6 = 25$$

$$25 \times 7 = 175$$

175まい

- ② りんごを 6つ 買って、4円 のふくろに入れてもらい、748円 はらいました。
りんご1つのねだんは何円ですか。



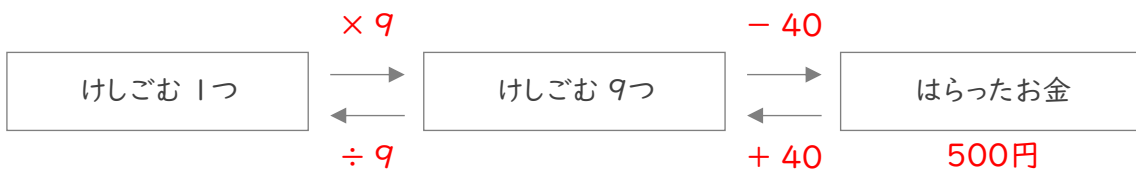
(式)

$$748 - 4 = 744$$

$$744 \div 6 = 124$$

124円

- ③ けしごむを 9つ 買って、40円 安くしてもらって、500円 はらいました。
けしごむ1つのねだんは何円ですか。



(式)

$$500 + 40 = 540$$

$$540 \div 9 = 60$$

60円