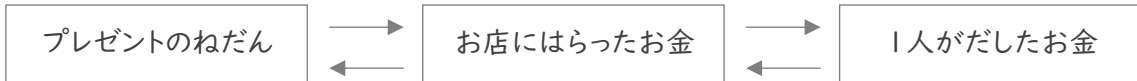


■ 次の各問いに答えましょう。

- ① たいちさんたち 3人 はプレゼントを買って120円 のラッピングをしてもらい、お金を出しあいました。3人 が出した金額が同じで、たいちさんは490円を出していたとき、プレゼントは何円でしたか。



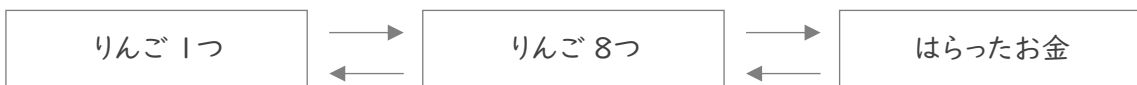
(式)

- ② 同じ重さのくぎ 60本 を、50g のかごにいれて、その全体の重さをはかると 410g でした。くぎ1本の重さは何gですか。



(式)

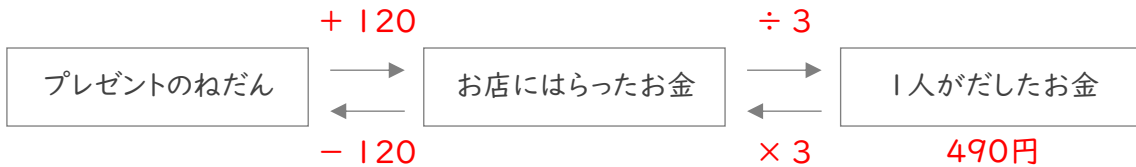
- ③ りんごを 8つ 買って、4円 のふくろに入れてもらい、1132円 はらいました。りんご1つのねだんは何円ですか。



(式)

■ 次の各問いに答えましょう。

- ① たいちさんたち 3人 はプレゼントを買って120円 のラッピングをしてもらい、お金を出しあいました。3人 が出した金額が同じで、たいちさんは490円を出していたとき、プレゼントは何円でしたか。



(式)

$$490 \times 3 = 1470$$

$$1470 - 120 = 1350$$

1350円

- ② 同じ重さのくぎ 60本 を、50g のかごにいれて、その全体の重さをはかると 410g でした。くぎ1本の重さは何gですか。



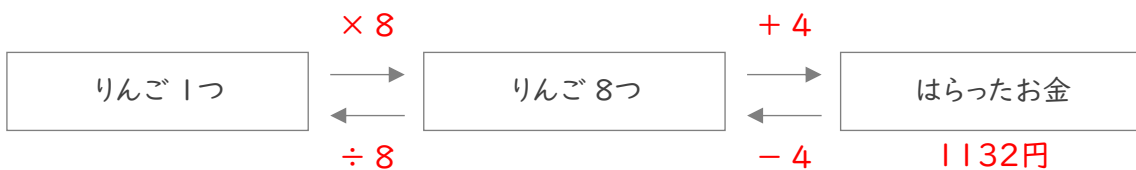
(式)

$$410 - 50 = 360$$

$$360 \div 60 = 6$$

6g

- ③ りんごを 8つ 買って、4円 のふくろに入れてもらい、1132円 はらいました。りんご1つのねだんは何円ですか。



(式)

$$1132 - 4 = 1128$$

$$1128 \div 8 = 141$$

141円