



■ 下の3点A, B, Cについて考える。次のような直線や線分、半直線をひきなさい。

- ① 直線CB
- ② 線分CA
- ③ 半直線BA



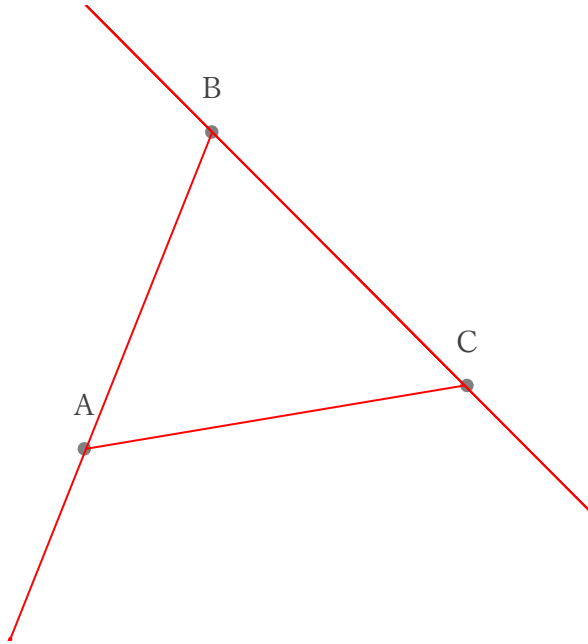
■ 下の3点D, E, Fについて考える。次のような直線や線分、半直線をひきなさい。

- ④ 直線DF
- ⑤ 線分DE
- ⑥ 半直線FE



■ 下の3点A, B, Cについて考える。次のような直線や線分、半直線をひきなさい。

- ① 直線CB
- ② 線分CA
- ③ 半直線BA



■ 下の3点D, E, Fについて考える。次のような直線や線分、半直線をひきなさい。

- ④ 直線DF
- ⑤ 線分DE
- ⑥ 半直線FE

