



■ 下の3点A, B, Cについて考える。次のような直線や線分、半直線をひきなさい。

- ① 直線AB
- ② 線分AC
- ③ 半直線BC



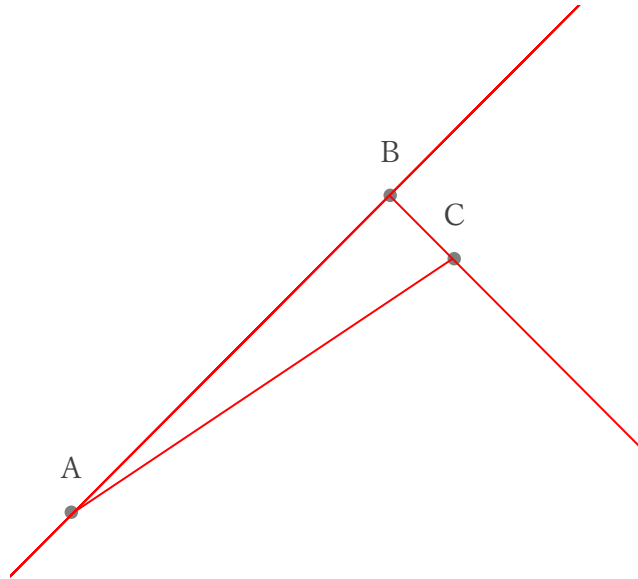
■ 下の3点D, E, Fについて考える。次のような直線や線分、半直線をひきなさい。

- ④ 直線FD
- ⑤ 線分FE
- ⑥ 半直線DE



■ 下の3点A, B, Cについて考える。次のような直線や線分、半直線をひきなさい。

- ① 直線AB
- ② 線分AC
- ③ 半直線BC



■ 下の3点D, E, Fについて考える。次のような直線や線分、半直線をひきなさい。

- ④ 直線FD
- ⑤ 線分FE
- ⑥ 半直線DE

