






■ 下の図形を形ともようで分けます。






形ともようについてまとめた表をつくりましょう。

| もよう | ○ | △ | □ | ☆ | ♡ | 合計 |
|---|----------|---|---|---|---|----|
|  | 正の字 数 | | | | | 数 |
|  | | | | | | |
|  | | | | | | |
| 合計 | 数 | | | | | |

■ 下の図形を形ともようで分けます。



形ともようについてまとめた表をつくりましょう。

| もよう | ○ | △ | □ | ☆ | ♡ | 合計 |
|---|---------------------------|---|---|---|---|--------------------|
|  | <small>正の字</small> 数 2 | 0 | 3 | 3 | 1 | <small>数</small> 9 |
|  | 省略 2 | 3 | 1 | 4 | 1 | 11 |
|  | 1 | 2 | 2 | 0 | 4 | 9 |
| 合計 | <small>数</small> 5 | 5 | 6 | 7 | 6 | 29 |