

# 図をつかって考えよう

年 組 名前

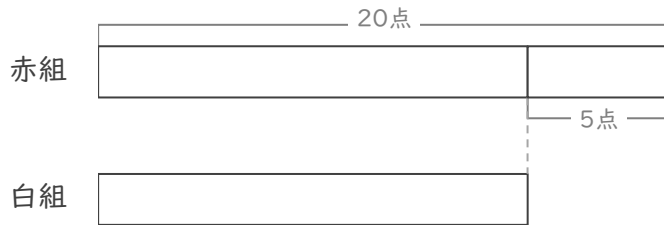
/ 3

■ 図を見て考えましょう。

① 赤組と白組でとく点をきそっています。

赤組は、白組より 5点 多いそうです。

赤組は 20点 です。白組は何点ですか。



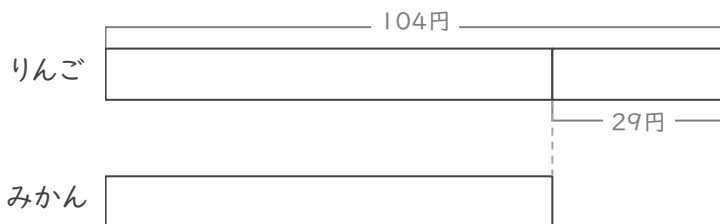
(式)

点

② りんごとみかんを買います。

りんごは、みかんより 29円 高いそうです。

りんごは 104円 です。みかんは何円ですか。



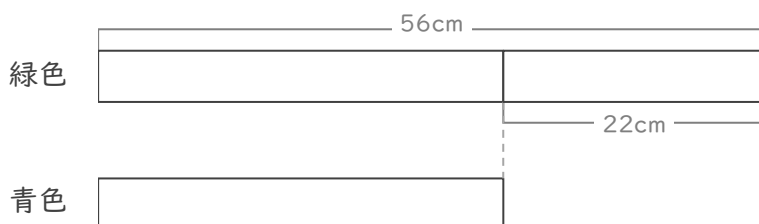
(式)

円

③ 緑色のリボンと青色のリボンがあります。

緑色のリボンは、青色のリボンより 22cm 長いそうです。

緑色のリボンは 56cm です。青色のリボンは何cmですか。



(式)

cm

# 図をつかって考えよう

年 組 名前

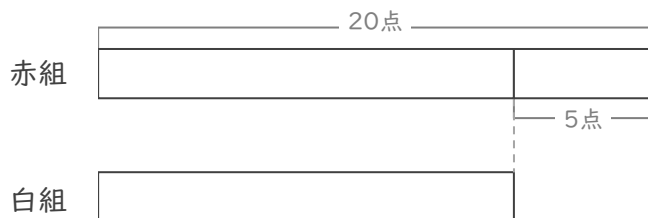
/ 3

■ 図を見て考えましょう。

① 赤組と白組でとく点をきそっています。

赤組は、白組より5点 多いそうです。

赤組は20点 です。白組は何点ですか。



(式)

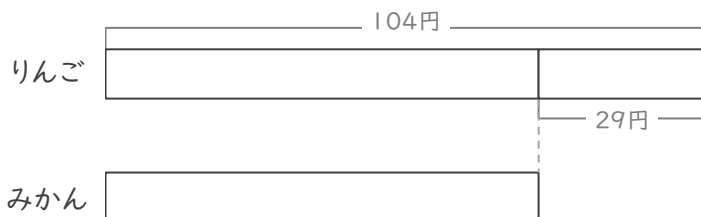
$$20 - 5 = 15$$

15 点

② りんごとみかんを買います。

りんごは、みかんより29円 高いそうです。

りんごは104円 です。みかんは何円ですか。



(式)

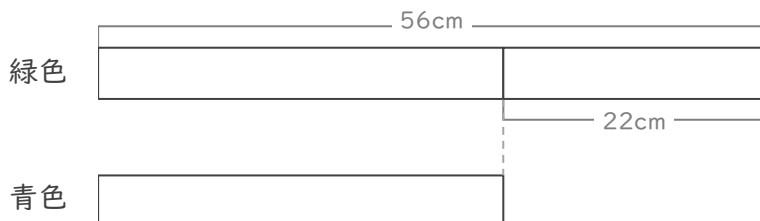
$$104 - 29 = 75$$

75 円

③ 緑色のリボンと青色のリボンがあります。

緑色のリボンは、青色のリボンより22cm 長いそうです。

緑色のリボンは56cm です。青色のリボンは何cmですか。



(式)

$$56 - 22 = 34$$

34 cm