

図をつかって考えよう

年 組 名前

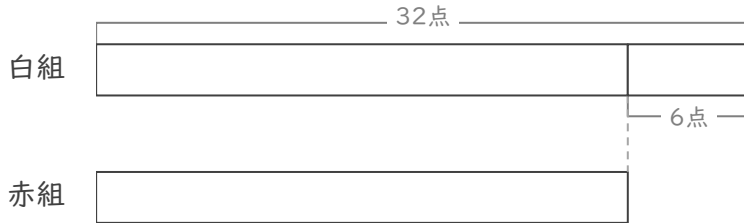
/ 3

■ 図を見て考えましょう。

① 赤組と白組でとく点をきそっています。

白組は、赤組より6点 多いそうです。

白組は 32点 です。赤組は何点ですか。



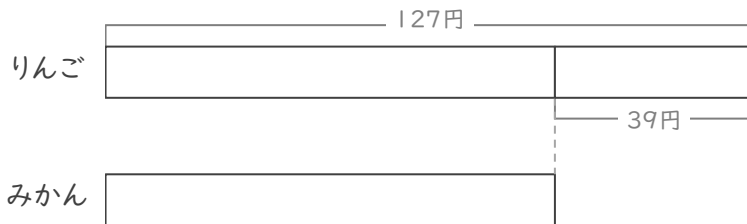
(式)

点

② りんごとみかんを買います。

りんごは、みかんより39円 高いそうです。

りんごは 127円 です。みかんは何円ですか。



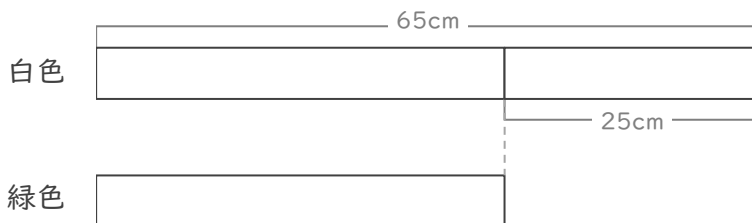
(式)

円

③ 白色のリボンと緑色のリボンがあります。

白色のリボンは、緑色のリボンより25cm 長いそうです。

白色のリボンは 65cm です。緑色のリボンは何cmですか。



(式)

cm

図をつかって考えよう

年 組 名前

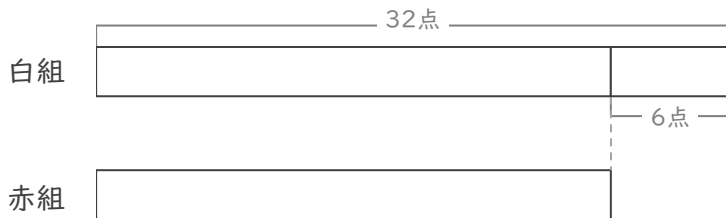
/ 3

■ 図を見て考えましょう。

① 赤組と白組でとく点をきそっています。

白組は、赤組より6点 多いそうです。

白組は 32点 です。赤組は何点ですか。



(式)

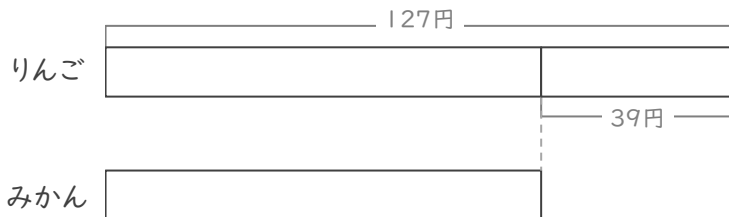
$$32 - 6 = 26$$

26 点

② りんごとみかんを買います。

りんごは、みかんより39円 高いそうです。

りんごは 127円 です。みかんは何円ですか。



(式)

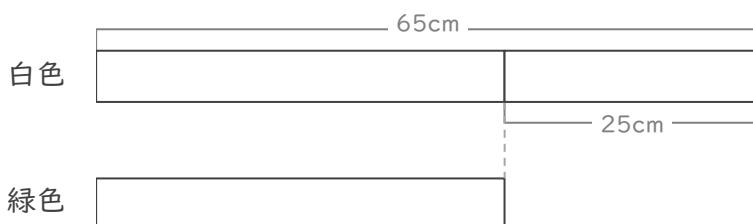
$$127 - 39 = 88$$

88 円

③ 白色のリボンと緑色のリボンがあります。

白色のリボンは、緑色のリボンより25cm 長いそうです。

白色のリボンは 65cm です。緑色のリボンは何cmですか。



(式)

$$65 - 25 = 40$$

40 cm