

図をつかって考えよう

年 組 名前

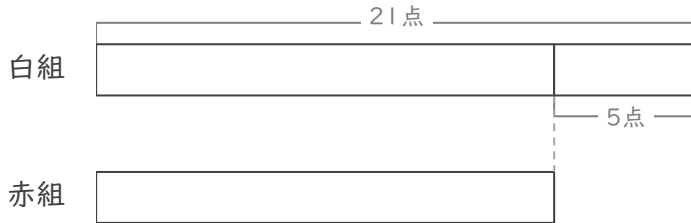
/ 3

■ 図を見て考えましょう。

① 赤組と白組でとく点をきそっています。

白組は、赤組より5点 多いそうです。

白組は21点 です。赤組は何点ですか。



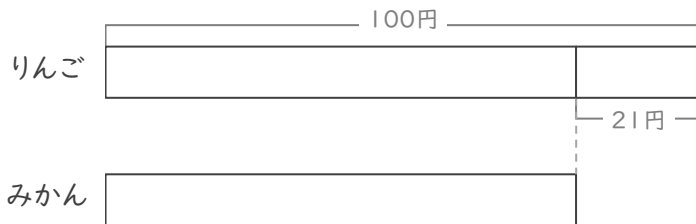
(式)

点

② りんごとみかんを買います。

りんごは、みかんより21円 高いそうです。

りんごは100円 です。みかんは何円ですか。



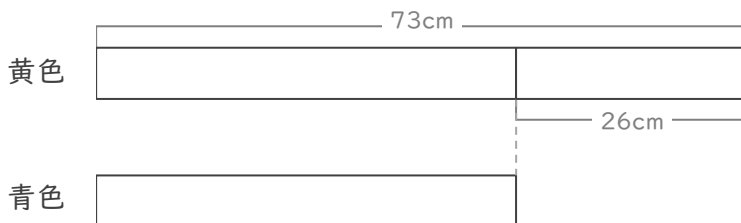
(式)

円

③ 黄色のリボンと青色のリボンがあります。

黄色のリボンは、青色のリボンより26cm 長いそうです。

黄色のリボンは73cm です。青色のリボンは何cmですか。



(式)

cm

図をつかって考えよう

年 組 名前

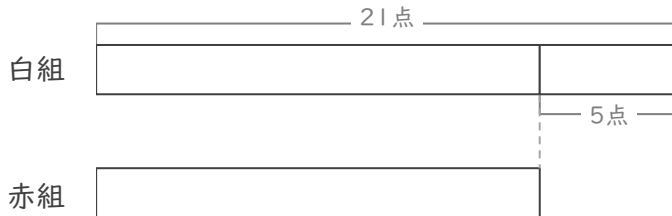
/ 3

■ 図を見て考えましょう。

① 赤組と白組でとく点をきそっています。

白組は、赤組より5点 多いそうです。

白組は21点 です。赤組は何点ですか。



(式)

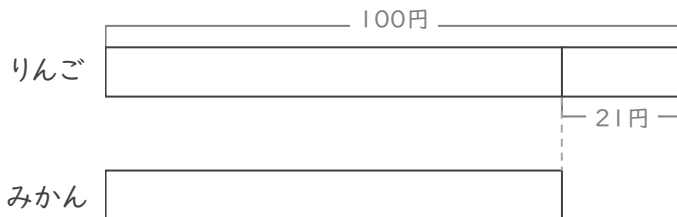
$$21 - 5 = 16$$

16 点

② りんごとみかんを買います。

りんごは、みかんより21円 高いそうです。

りんごは100円 です。みかんは何円ですか。



(式)

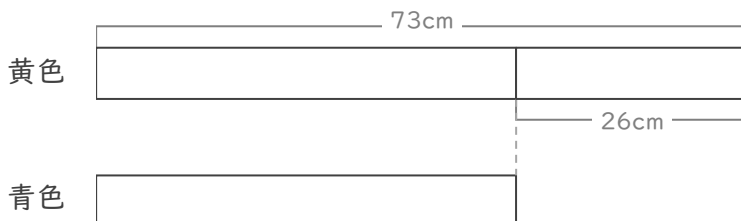
$$100 - 21 = 79$$

79 円

③ 黄色のリボンと青色のリボンがあります。

黄色のリボンは、青色のリボンより26cm 長いそうです。

黄色のリボンは73cm です。青色のリボンは何cmですか。



(式)

$$73 - 26 = 47$$

47 cm