

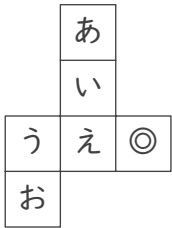
# 立方体のでん開図

年 組 名前

/15

■ 次の立方体のでん開図を組み立てたときに、◎のむかい(反対側)になる面を答えましょう。

①



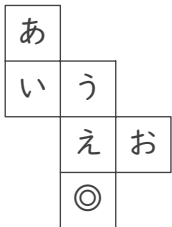
むかいの面

②



むかいの面

③



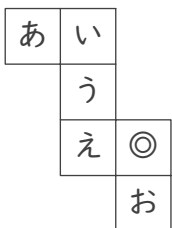
むかいの面

④



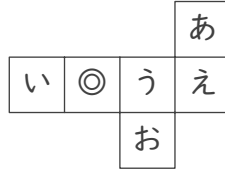
むかいの面

⑤



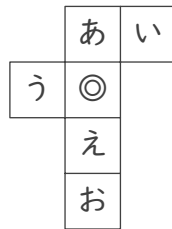
むかいの面

⑥



むかいの面

⑦



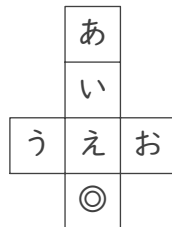
むかいの面

⑧



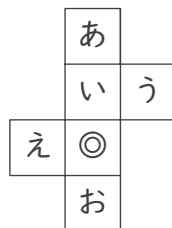
むかいの面

⑨



むかいの面

⑩



むかいの面

⑪



むかいの面

⑫



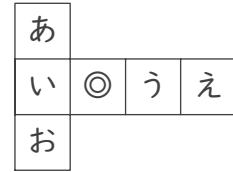
むかいの面

⑬




むかいの面

⑭



むかいの面

⑮



むかいの面

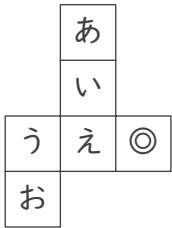
# 立方体のでん開図

年 組 名前

/15

■ 次の立方体のでん開図を組み立てたときに、◎のむかい(反対側)になる面を答えましょう。

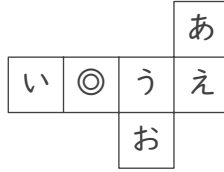
①



むかいの面

う

⑥



むかいの面

え

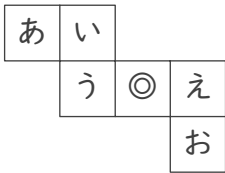
⑪



むかいの面

あ

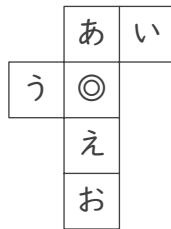
②



むかいの面

あ

⑦



むかいの面

お

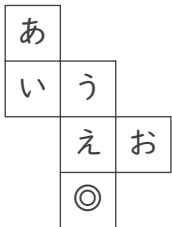
⑫



むかいの面

う

③



むかいの面

う

⑧



むかいの面

う

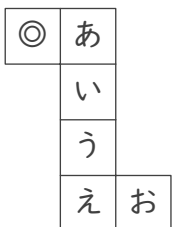
⑬



むかいの面

う

④



むかいの面

お

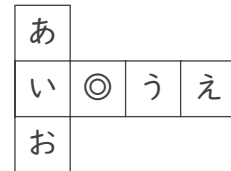
⑨



むかいの面

い

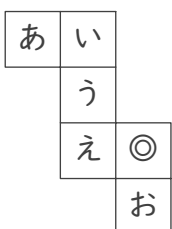
⑭



むかいの面

え

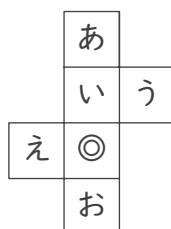
⑤



むかいの面

あ

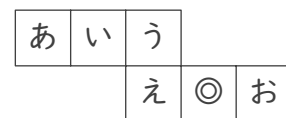
⑩



むかいの面

あ

⑮



むかいの面

い