

立方体のでん開図

年 組 名前

/15

■ 次の立方体のでん開図を組み立てたときに、◎のむかい(反対側)になる面を答えましょう。

①

◎			
あ	い		
	う	え	
		お	

むかいの面

⑥

	あ		
	い		
	う		
◎	え	お	

むかいの面

⑪

		◎	
あ	い	う	え
お			

むかいの面

②

	あ	い	
	◎		
	う		
え	お		

むかいの面

⑦

	あ		
い	◎		
	う	え	
	お		

むかいの面

⑫

あ	い		
	う	◎	え
		お	

むかいの面

③

			あ
い	◎	う	え
お			

むかいの面

⑧

	あ		
	い		
う	え		
◎			
お			

むかいの面

⑬

			あ
い	う	◎	
	え		
	お		

むかいの面

④

	あ		
	い		
	う	え	
お	◎		

むかいの面

⑨

あ			
い	う		
	え	お	
	◎		

むかいの面

⑭

あ	い		
	◎		
	う	え	
		お	

むかいの面

⑤

			あ
	◎	い	
う	え		
お			

むかいの面

⑩

		◎	あ	い
う	え	お		

むかいの面

⑮

			あ
	い	う	
	え		
お	◎		

むかいの面

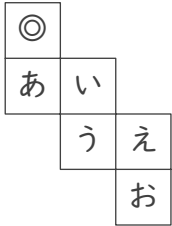
立方体のでん開図

年 組 名前

/15

■ 次の立方体のでん開図を組み立てたときに、◎のむかい(反対側)になる面を答えましょう。

①



むかいの面

う

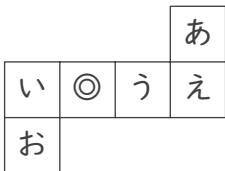
②



むかいの面

お

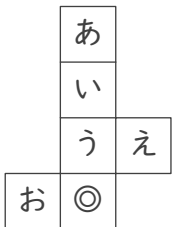
③



むかいの面

え

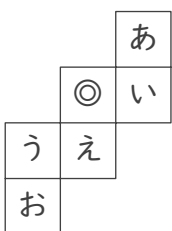
④



むかいの面

い

⑤



むかいの面

お

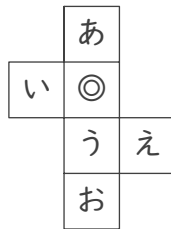
⑥



むかいの面

お

⑦



むかいの面

お

⑧



むかいの面

い

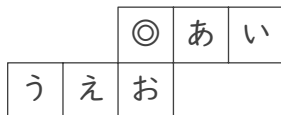
⑨



むかいの面

う

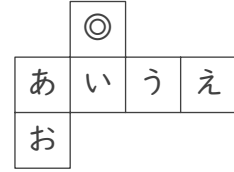
⑩



むかいの面

い

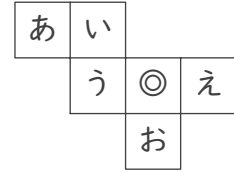
⑪



むかいの面

お

⑫



むかいの面

あ

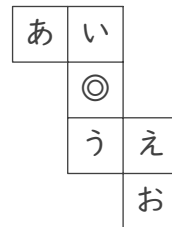
⑬



むかいの面

い

⑭



むかいの面

お

⑮



むかいの面

い