

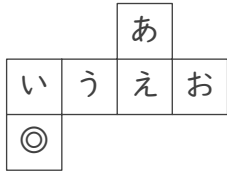
立方体のでん開図

年 組 名前

/15

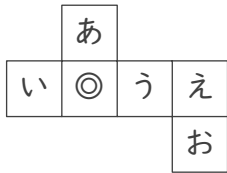
■ 次の立方体のでん開図を組み立てたときに、◎のむかい(反対側)になる面を答えましょう。

①



むかいの面

②



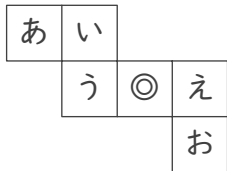
むかいの面

③



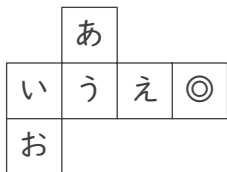
むかいの面

④



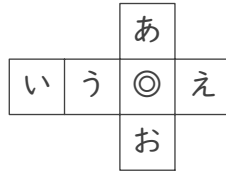
むかいの面

⑤



むかいの面

⑥



むかいの面

⑦



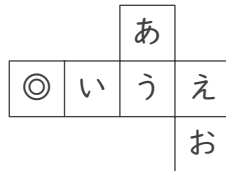
むかいの面

⑧



むかいの面

⑨



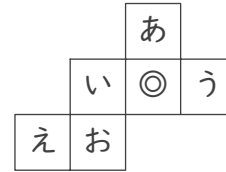
むかいの面

⑩



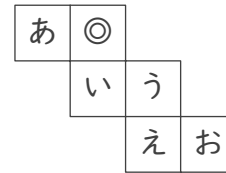
むかいの面

⑪



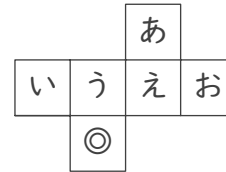
むかいの面

⑫



むかいの面

⑬



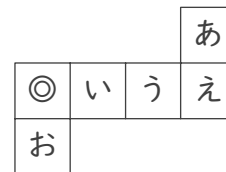
むかいの面

⑭



むかいの面

⑮



むかいの面

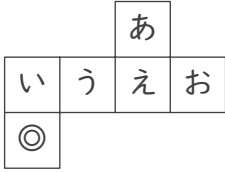
立方体のでん開図

年 組 名前

/15

■ 次の立方体のでん開図を組み立てたときに、◎のむかい(反対側)になる面を答えましょう。

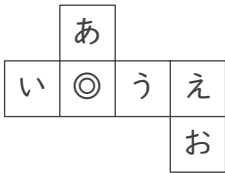
①



むかいの面

あ

②



むかいの面

え

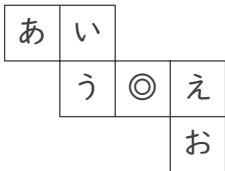
③



むかいの面

え

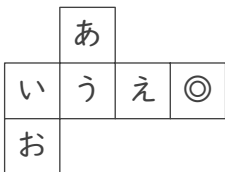
④



むかいの面

あ

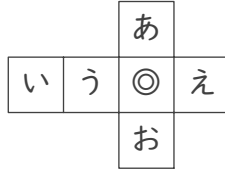
⑤



むかいの面

う

⑥



むかいの面

い

⑦



むかいの面

う

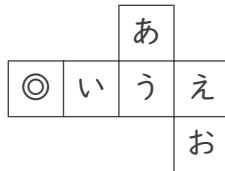
⑧



むかいの面

え

⑨



むかいの面

う

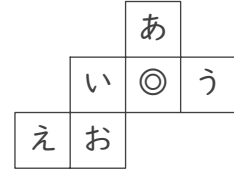
⑩



むかいの面

う

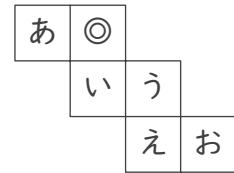
⑪



むかいの面

え

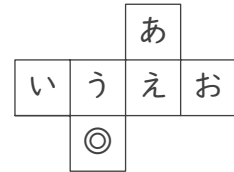
⑫



むかいの面

え

⑬



むかいの面

あ

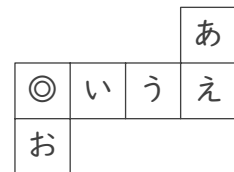
⑭



むかいの面

う

⑮



むかいの面

う