

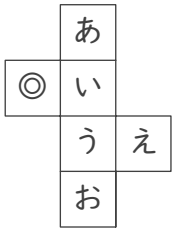
立方体のでん開図

年 組 名前

/15

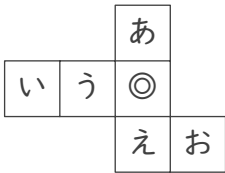
■ 次の立方体のでん開図を組み立てたときに、◎のむかい(反対側)になる面を答えましょう。

①



むかいの面

②



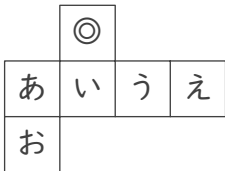
むかいの面

③



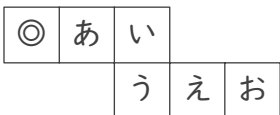
むかいの面

④



むかいの面

⑤



むかいの面

⑥



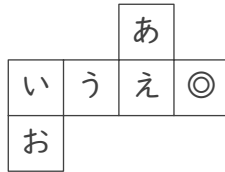
むかいの面

⑦



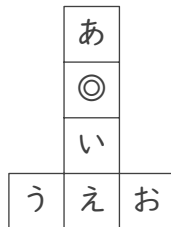
むかいの面

⑧



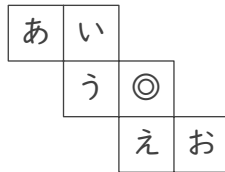
むかいの面

⑨



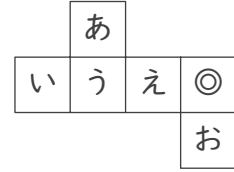
むかいの面

⑩



むかいの面

⑪



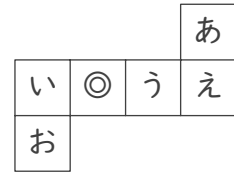
むかいの面

⑫



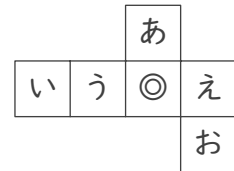
むかいの面

⑬



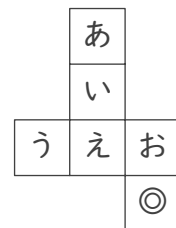
むかいの面

⑭



むかいの面

⑮



むかいの面

立方体のでん開図

年 組 名前

/15

■ 次の立方体のでん開図を組み立てたときに、◎のむかい(反対側)になる面を答えましょう。

①

むかいの面

え

⑥

むかいの面

う

⑪

むかいの面

う

②

むかいの面

い

⑦

むかいの面

あ

⑫

むかいの面

う

③

むかいの面

う

⑧

むかいの面

う

⑬

むかいの面

え

④

むかいの面

お

⑨

むかいの面

え

⑭

むかいの面

い

⑤

むかいの面

い

⑩

むかいの面

あ

⑮

むかいの面

い