

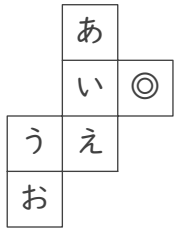
# 立方体のでん開図

年 組 名前

/15

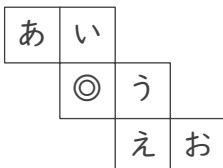
■ 次の立方体のでん開図を組み立てたときに、◎のむかい(反対側)になる面を答えましょう。

①



むかいの面

②



むかいの面

③



むかいの面

④



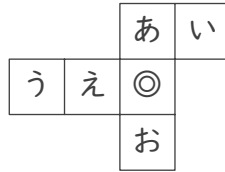
むかいの面

⑤



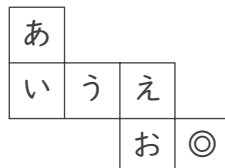
むかいの面

⑥



むかいの面

⑦



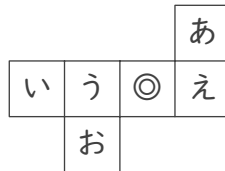
むかいの面

⑧



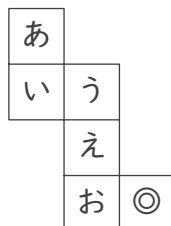
むかいの面

⑨



むかいの面

⑩



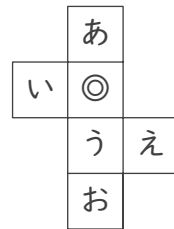
むかいの面

⑪



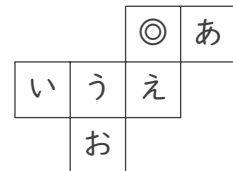
むかいの面

⑫



むかいの面

⑬



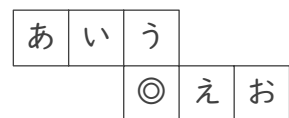
むかいの面

⑭



むかいの面

⑮



むかいの面

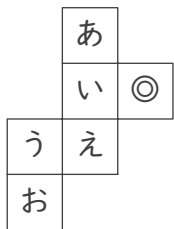
# 立方体のでん開図

年 組 名前

/15

■ 次の立方体のでん開図を組み立てたときに、◎のむかい(反対側)になる面を答えましょう。

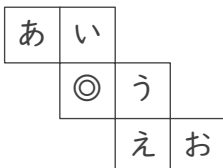
①



むかいの面

う

②



むかいの面

お

③



むかいの面

う

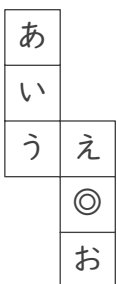
④



むかいの面

い

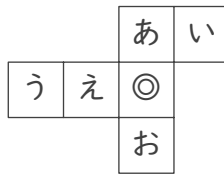
⑤



むかいの面

い

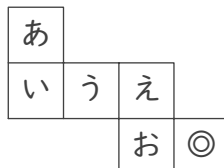
⑥



むかいの面

う

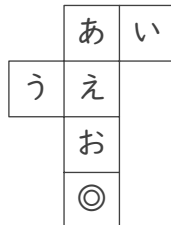
⑦



むかいの面

う

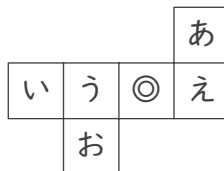
⑧



むかいの面

え

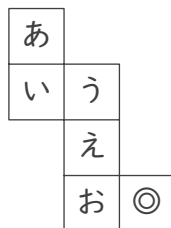
⑨



むかいの面

い

⑩



むかいの面

い

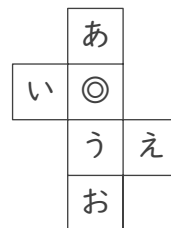
⑪



むかいの面

お

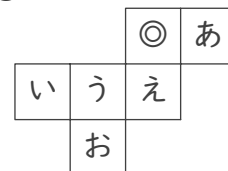
⑫



むかいの面

お

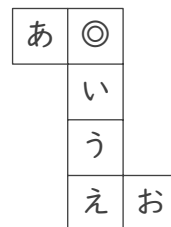
⑬



むかいの面

お

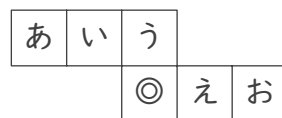
⑭



むかいの面

う

⑮



むかいの面

お