

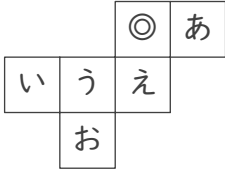
立方体のでん開図

年 組 名前

/15

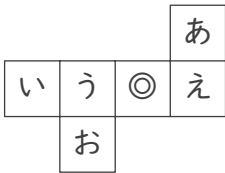
■ 次の立方体のでん開図を組み立てたときに、◎のむかい(反対側)になる面を答えましょう。

①



むかいの面

②



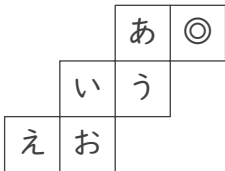
むかいの面

③



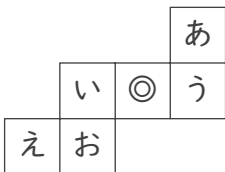
むかいの面

④



むかいの面

⑤



むかいの面

⑥



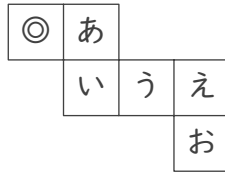
むかいの面

⑦



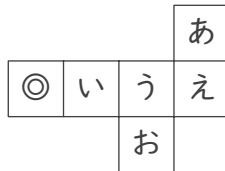
むかいの面

⑧



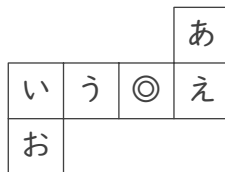
むかいの面

⑨



むかいの面

⑩



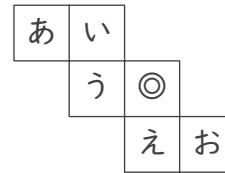
むかいの面

⑪



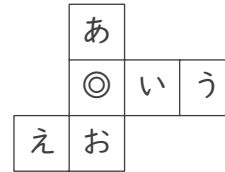
むかいの面

⑫



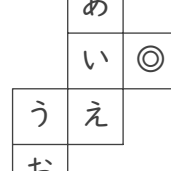
むかいの面

⑬



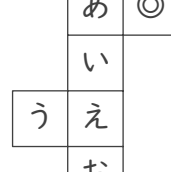
むかいの面

⑭



むかいの面

⑮



むかいの面

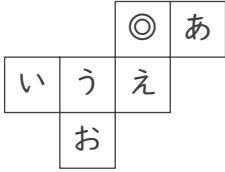
立方体のでん開図

年 組 名前

/15

■ 次の立方体のでん開図を組み立てたときに、◎のむかい(反対側)になる面を答えましょう。

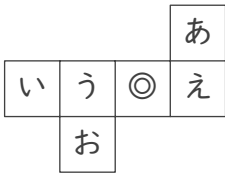
①



むかいの面

お

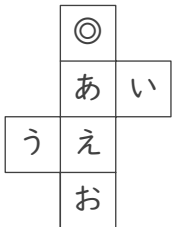
②



むかいの面

い

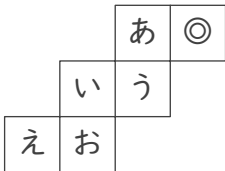
③



むかいの面

え

④



むかいの面

い

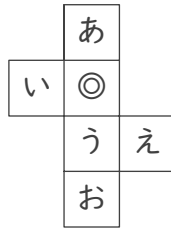
⑤



むかいの面

え

⑥



むかいの面

お

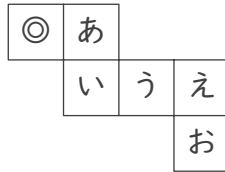
⑦



むかいの面

あ

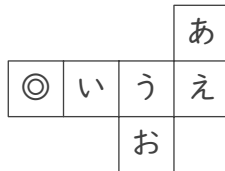
⑧



むかいの面

う

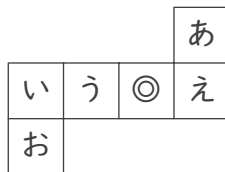
⑨



むかいの面

う

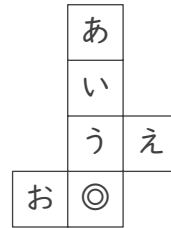
⑩



むかいの面

い

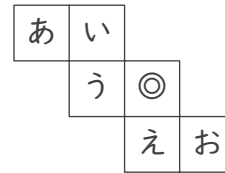
⑪



むかいの面

い

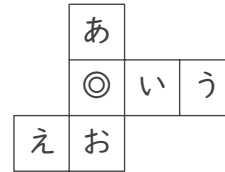
⑫



むかいの面

あ

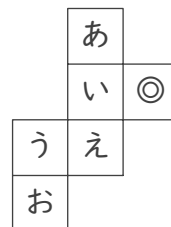
⑬



むかいの面

う

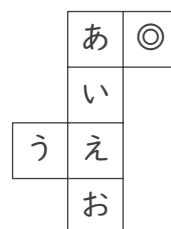
⑭



むかいの面

う

⑮



むかいの面

う