

帯グラフと円グラフ

年 組 名前

/7

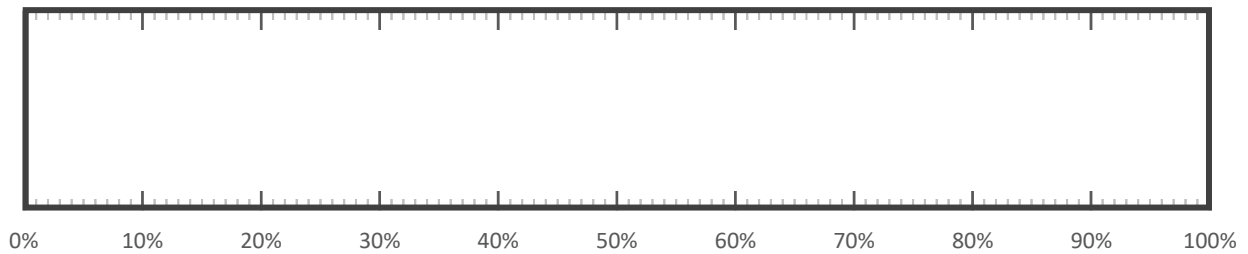
■ 25人に好きな色を聞いて、次のような表をつくりました。

好きな色	赤	白	黒	黄色	その他	合計
人数(人)	11	5	3	3	3	25
割合(%)						100

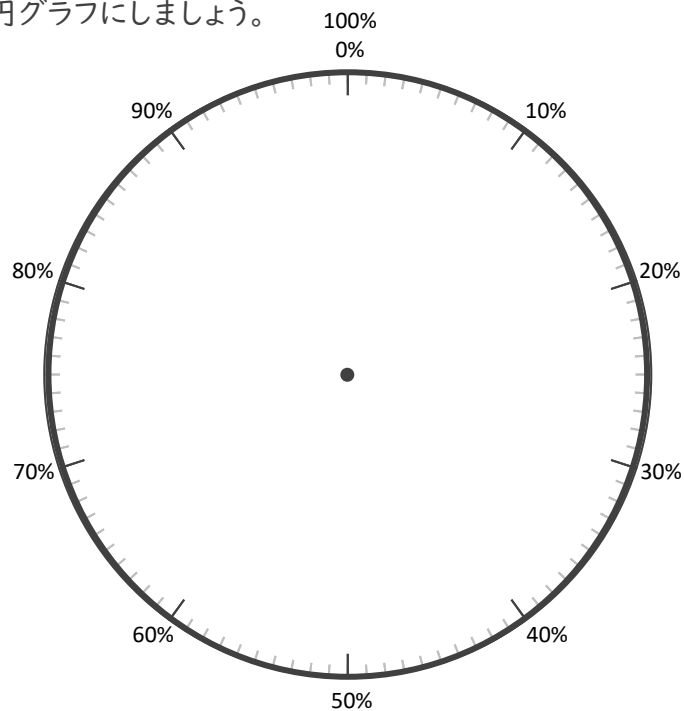
① 表のあいているところをうめて、表を完成させましょう。

～計算スペース～

② 25人の好きな色を帯グラフに表しましょう。



③ 25人の好きな色を円グラフにしましょう。



帯グラフと円グラフ

年 組 名前

/7

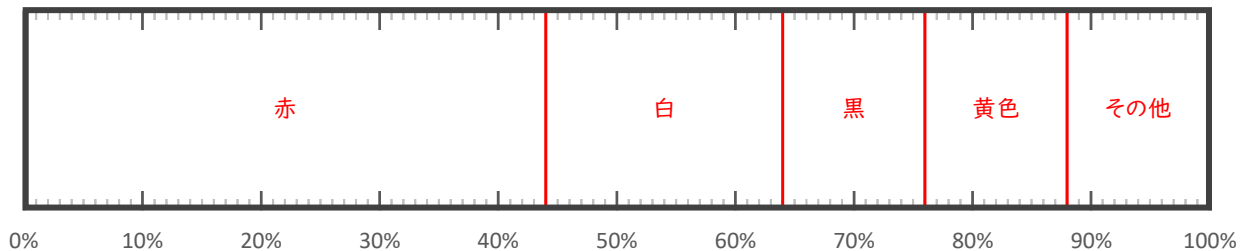
■ 25人に好きな色を聞いて、次のような表をつくりました。

好きな色	赤	白	黒	黄色	その他	合計
人数(人)	11	5	3	3	3	25
割合(%)	44	20	12	12	12	100

① 表のあいているところをうめて、表を完成させましょう。

～計算スペース～

② 25人の好きな色を帯グラフに表しましょう。



③ 25人の好きな色を円グラフにしましょう。

