

帯グラフと円グラフ

年 組 名前

/7

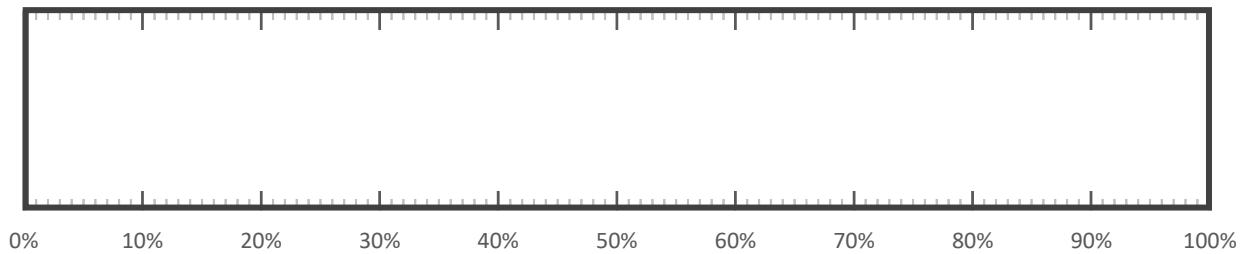
■ 40人に好きな色を聞いて、次のような表をつくりました。

好きな色	白	赤	ピンク	青	その他	合計
人数(人)	10	10	6	5	9	40
割合(%)						100

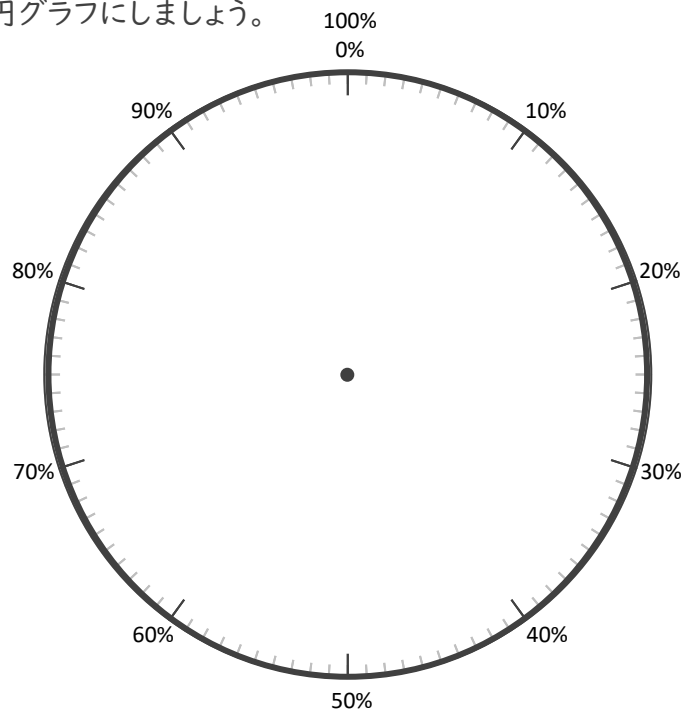
① 表のあいているところをうめて、表を完成させましょう。

～計算スペース～

② 40人の好きな色を帯グラフに表しましょう。



③ 40人の好きな色を円グラフにしましょう。



帯グラフと円グラフ

年 組 名前

/7

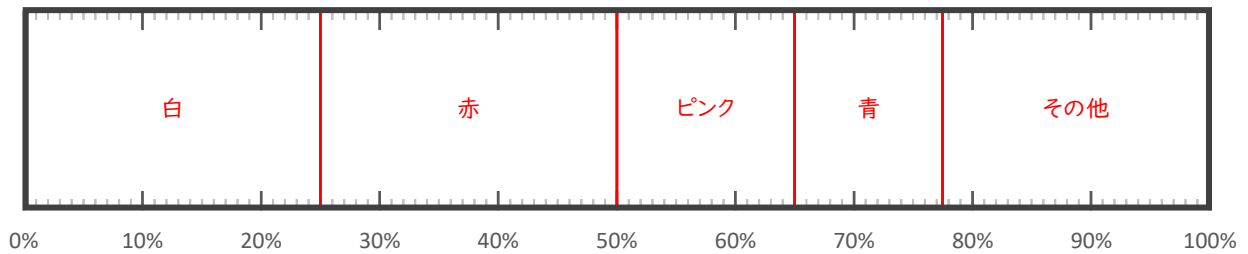
■ 40人に好きな色を聞いて、次のような表をつくりました。

好きな色	白	赤	ピンク	青	その他	合計
人数(人)	10	10	6	5	9	40
割合(%)	25	25	15	12.5	22.5	100

① 表のあいているところをうめて、表を完成させましょう。

～計算スペース～

② 40人の好きな色を帯グラフに表しましょう。



③ 40人の好きな色を円グラフにしましょう。

