

数字ブロック

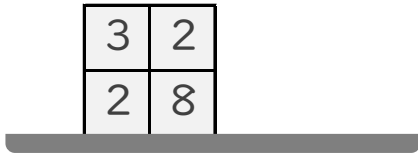
____年 ____組 名前

/ 5

■ 数字のかかれたブロックがつまれています。

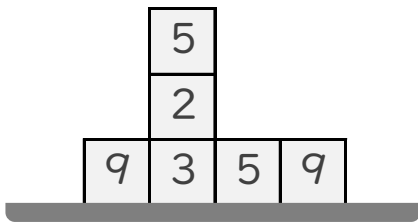
すべてのブロックにかかれた数字をあわせるといくつになりますか。

①



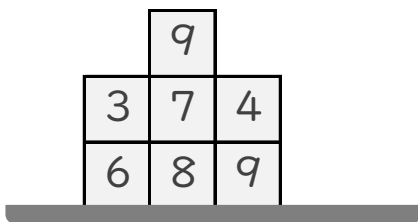
こたえ

②



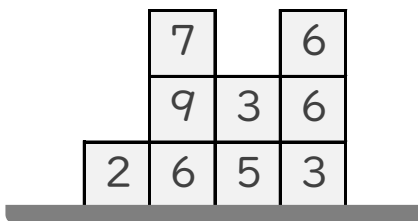
こたえ

③



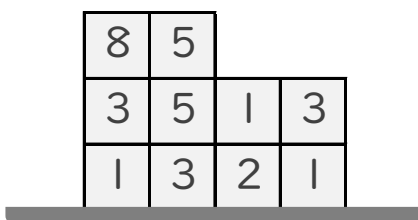
こたえ

④



こたえ

⑤



こたえ

数字ブロック

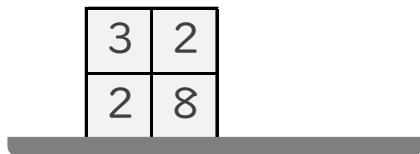
____年 ____組 名前

/ 5

■ 数字のかかれたブロックがつまれています。

すべてのブロックにかかれた数字をあわせるといくつになりますか。

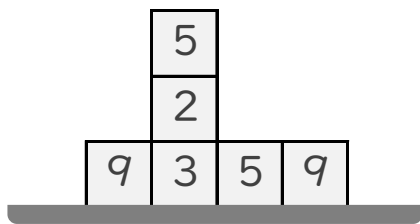
①



こたえ

15

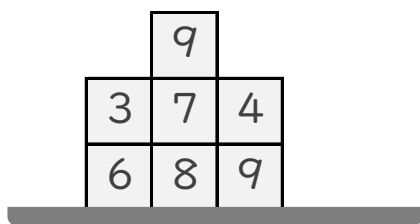
②



こたえ

33

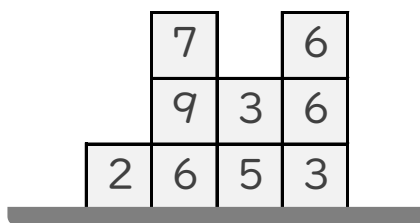
③



こたえ

46

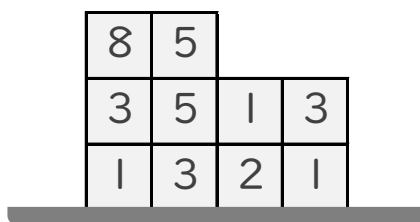
④



こたえ

47

⑤



こたえ

32