

数字ブロック

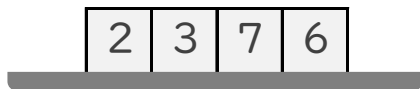
年 組 名前

/ 5

■ 数字の かかれた ブロックが つまれています。

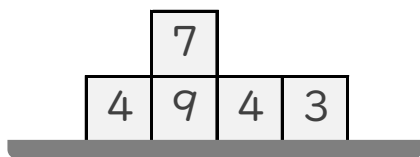
すべての ブロックに かかれた 数字を あわせると いくつ になりますか。

①



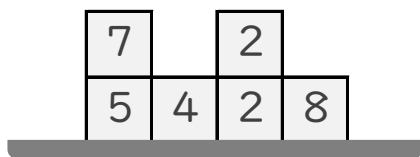
こたえ

②



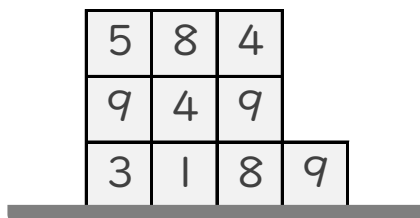
こたえ

③



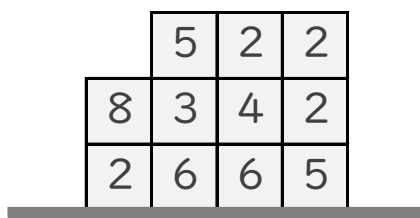
こたえ

④



こたえ

⑤



こたえ

数字ブロック

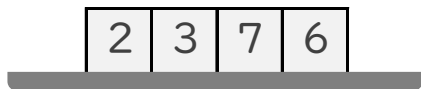
年 組 名前

/ 5

■ 数字の かかれた ブロックが つまれています。

すべての ブロックに かかれた 数字を あわせると いくつ になりますか。

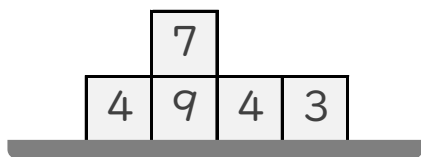
①



こたえ

18

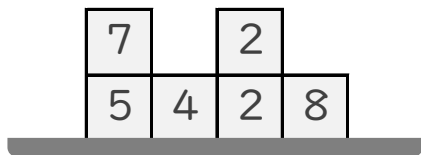
②



こたえ

27

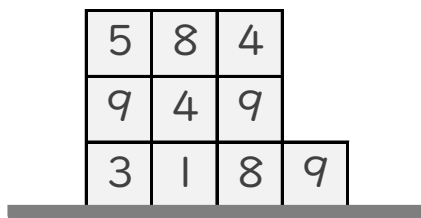
③



こたえ

28

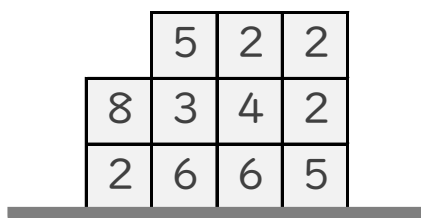
④



こたえ

60

⑤



こたえ

45