

# 数字ブロック

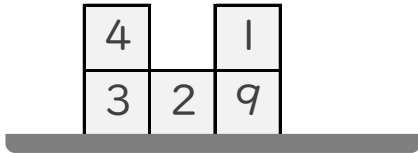
\_\_\_\_年 \_\_\_\_組 名前

/ 5

■ 数字のかかれたブロックがつまれています。

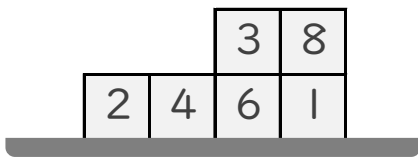
すべてのブロックにかかれた数字をあわせるといくつになりますか。

①



こたえ

②



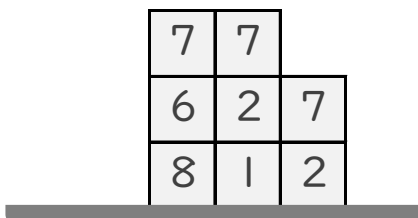
こたえ

③



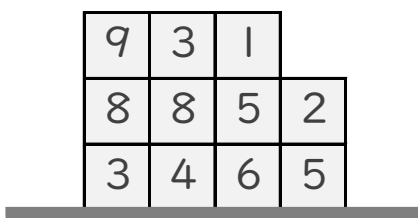
こたえ

④



こたえ

⑤



こたえ

# 数字ブロック

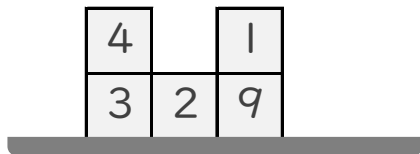
\_\_\_\_年 \_\_\_\_組 名前

/ 5

■ 数字のかかれたブロックがつまれています。

すべてのブロックにかかれた数字をあわせるといくつになりますか。

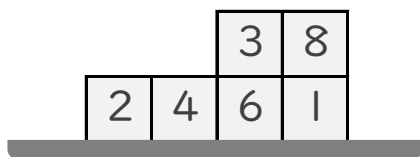
①



こたえ

19

②



こたえ

24

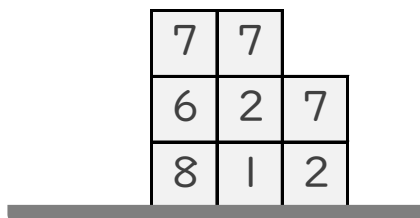
③



こたえ

41

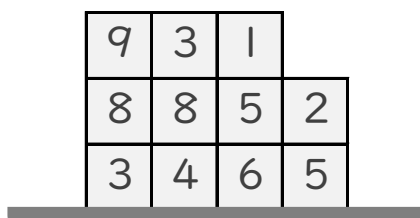
④



こたえ

40

⑤



こたえ

54