
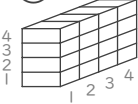
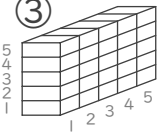



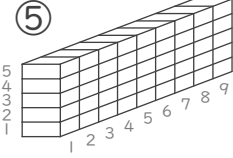
■ かけ算をつかってブロックの数を数えましょう。

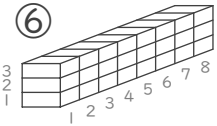
① (しき)  $\square \times \square = \square$
 ブロックの数 こ

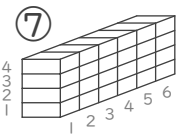
② (しき)  $\square \times \square = \square$
 ブロックの数 こ


③ (しき)  $\square \times \square = \square$
 ブロックの数 こ

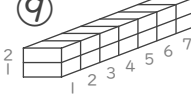
④ (しき)  $\square \times \square = \square$
 ブロックの数 こ

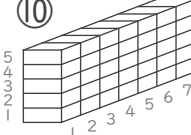
⑤ (しき)  $\square \times \square = \square$
 ブロックの数 こ

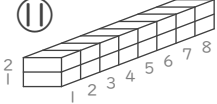
⑥ (しき)  $\square \times \square = \square$
 ブロックの数 こ

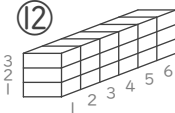
⑦ (しき)  $\square \times \square = \square$
 ブロックの数 こ

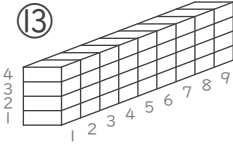
⑧ (しき)  $\square \times \square = \square$
 ブロックの数 こ

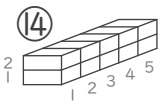
⑨ (しき)  $\square \times \square = \square$
 ブロックの数 こ

⑩ (しき)  $\square \times \square = \square$
 ブロックの数 こ


⑪ (しき)  $\square \times \square = \square$
 ブロックの数 こ

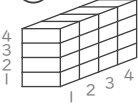
⑫ (しき)  $\square \times \square = \square$
 ブロックの数 こ

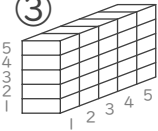
⑬ (しき)  $\square \times \square = \square$
 ブロックの数 こ


⑭ (しき)  $\square \times \square = \square$
 ブロックの数 こ

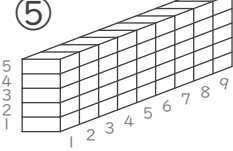
■ かけ算をつかってブロックの数を数えましょう。

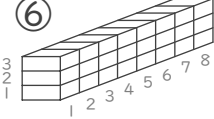
① (しき)  $2 \times 2 = 4$
 ブロックの数 こ

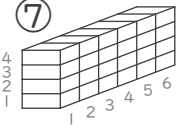
② (しき)  $4 \times 4 = 16$
 ブロックの数 こ


③ (しき)  $5 \times 5 = 25$
 ブロックの数 こ

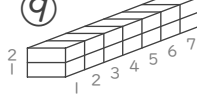
④ (しき)  $3 \times 3 = 9$
 ブロックの数 こ

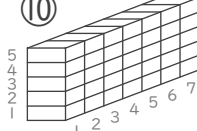
⑤ (しき)  $5 \times 9 = 45$
ぎやくでも〇
 ブロックの数 こ

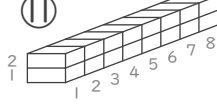
⑥ (しき)  $3 \times 8 = 24$
ぎやくでも〇
 ブロックの数 こ

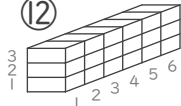
⑦ (しき)  $4 \times 6 = 24$
ぎやくでも〇
 ブロックの数 こ

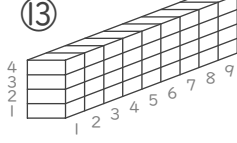
⑧ (しき)  $3 \times 4 = 12$
ぎやくでも〇
 ブロックの数 こ

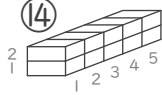
⑨ (しき)  $2 \times 7 = 14$
ぎやくでも〇
 ブロックの数 こ

⑩ (しき)  $5 \times 7 = 35$
ぎやくでも〇
 ブロックの数 こ

⑪ (しき)  $2 \times 8 = 16$
ぎやくでも〇
 ブロックの数 こ

⑫ (しき)  $3 \times 6 = 18$
ぎやくでも〇
 ブロックの数 こ

⑬ (しき)  $4 \times 9 = 36$
ぎやくでも〇
 ブロックの数 こ

⑭ (しき)  $2 \times 5 = 10$
ぎやくでも〇
 ブロックの数 こ