

かずしらべ


ねん くみ
なまえ

/ 5

■ かずをせいりしてしらべます。



① うえのずとおなじかずだけひだりからいろをぬりましょう。



② いちばん おおいのはどれですか。


③ いちばん すくないのはどれですか。

かずしらべ


ねん くみ
なまえ

/ 5

■ かずをせいりしてしらべます。



① うえのずとおなじかずだけひだりからいろをぬりましょう。



② いちばん おおいのはどれですか。

ほし

③ いちばん すくないのはどれですか。

まる