


かずしらべ

ねん くみ
なまえ

/ 5

■ かずをせいりしてしらべます。



① うえのずとおなじかずだけひだりからいろをぬりましょう。

ほし	☆	☆	☆	☆	☆	☆	☆	☆	☆	☆
はあと	♡	♡	♡	♡	♡	♡	♡	♡	♡	♡
まる	○	○	○	○	○	○	○	○	○	○

② いちばん おおいのはどれですか。


③ いちばん すくないのはどれですか。

かずしらべ


ねん くみ
なまえ

/ 5

■ かずをせいりしてしらべます。



① うえのずとおなじかずだけひだりからいろをぬりましょう。



② いちばん おおいのはどれですか。

まる

③ いちばん すくないのはどれですか。

ほし