


# かずしらべ


ねん くみ  
なまえ

/ 5

■ かずをせいりしてしらべます。



① うえのずとおなじかずだけひだりからいろをぬりましょう。



② いちばん おおいのはどれですか。


③ いちばん すくないのはどれですか。

# かずしらべ

ねん くみ  
なまえ

/ 5

■ かずをせいりしてしらべます。



① うえのずとおなじかずだけひだりからいろをぬりましょう。

|     |   |   |   |   |   |   |   |   |   |   |
|-----|---|---|---|---|---|---|---|---|---|---|
| ほし  | ★ | ★ | ★ | ★ | ★ | ☆ | ☆ | ☆ | ☆ | ☆ |
| はあと | ♥ | ♥ | ♥ | ♥ | ♥ | ♥ | ♥ | ♥ | ♥ | ♡ |
| まる  | ● | ● | ● | ● | ● | ● | ● | ○ | ○ | ○ |

② いちばん おおいのはどれですか。

はあと

③ いちばん すくないのはどれですか。

ほし