

# ふやしてみよう


ねん くみ

なまえ

/ 6

■ まる (○) が 2つ あります。

① まる (○) を 2つ ふやしましょう。



② まる (○) は ぜんぶで なんこ になりましたか。

■ さんかく (△) が 5つ あります。

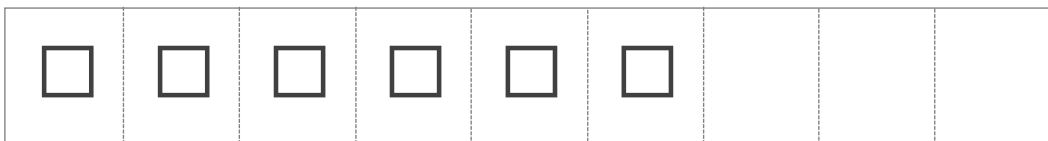
③ さんかく (△) を 2つ ふやしましょう。



④ さんかく (△) は ぜんぶで なんこ になりましたか。

■ しかく (□) が 6つ あります。

⑤ しかく (□) を 2つ ふやしましょう。



⑥ しかく (□) は ぜんぶで なんこ になりましたか。

# ふやしてみよう


ねん くみ

なまえ

/ 6

■ まる (○) が 2つ あります。

① まる (○) を 2つ ふやしましょう。



② まる (○) は ぜんぶで なんこ になりましたか。

4 こ

■ さんかく (△) が 5つ あります。

③ さんかく (△) を 2つ ふやしましょう。

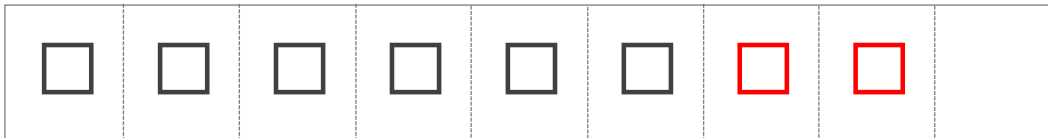


④ さんかく (△) は ぜんぶで なんこ になりましたか。

7 こ

■ しかく (□) が 6つ あります。

⑤ しかく (□) を 2つ ふやしましょう。



⑥ しかく (□) は ぜんぶで なんこ になりましたか。

8 こ