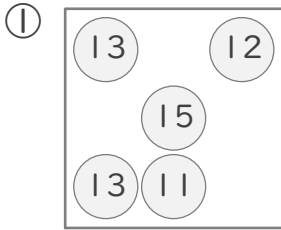


平均

年 組 名前

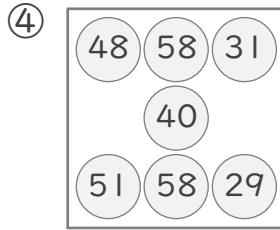
/18

■ はこの中にある、いくつかの玉に書かれた数字の合計と平均を求めましょう。



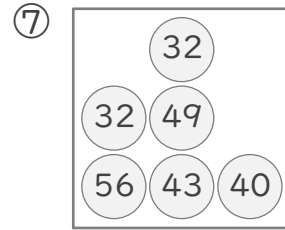
5つの玉に
書かれた数の合計

5つの玉に
書かれた数の平均



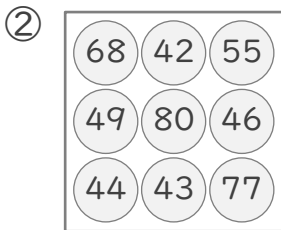
7つの玉に
書かれた数の合計

7つの玉に
書かれた数の平均



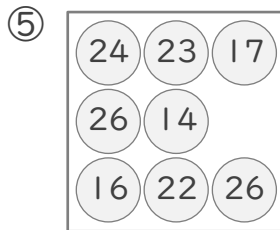
6つの玉に
書かれた数の合計

6つの玉に
書かれた数の平均



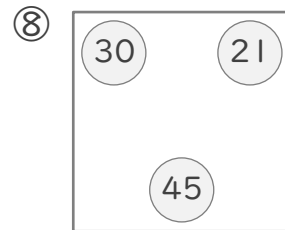
9つの玉に
書かれた数の合計

9つの玉に
書かれた数の平均



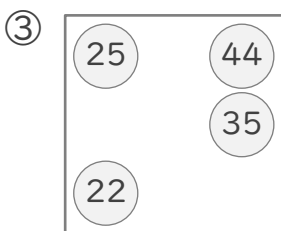
8つの玉に
書かれた数の合計

8つの玉に
書かれた数の平均



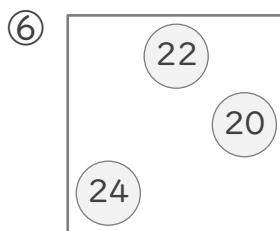
3つの玉に
書かれた数の合計

3つの玉に
書かれた数の平均



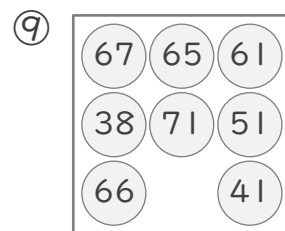
4つの玉に
書かれた数の合計

4つの玉に
書かれた数の平均



3つの玉に
書かれた数の合計

3つの玉に
書かれた数の平均



8つの玉に
書かれた数の合計

8つの玉に
書かれた数の平均

平均

年 組 名前

/18

■ はこの中にある、いくつかの玉に書かれた数字の合計と平均を求めましょう。

