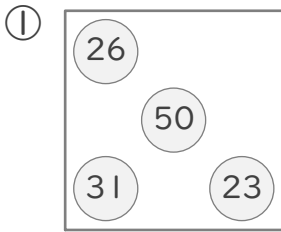


平均

年 組 名前

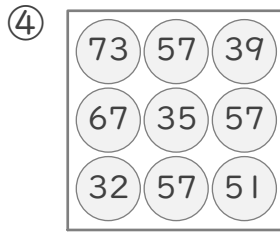
/18

■ はこの中にある、いくつかの玉に書かれた数字の合計と平均を求めましょう。



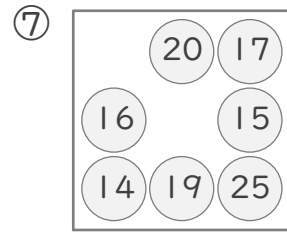
4つの玉に書かれた数の合計

4つの玉に書かれた数の平均



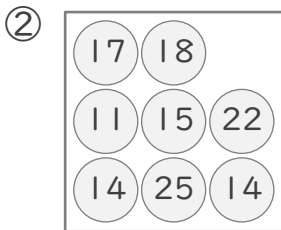
9つの玉に書かれた数の合計

9つの玉に書かれた数の平均



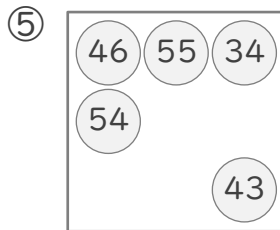
7つの玉に書かれた数の合計

7つの玉に書かれた数の平均



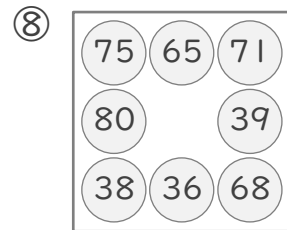
8つの玉に書かれた数の合計

8つの玉に書かれた数の平均



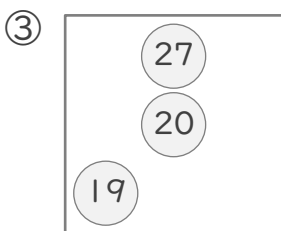
5つの玉に書かれた数の合計

5つの玉に書かれた数の平均



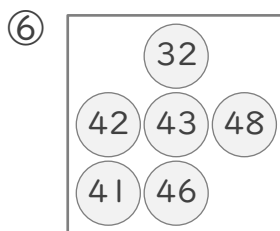
8つの玉に書かれた数の合計

8つの玉に書かれた数の平均



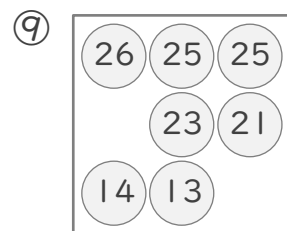
3つの玉に書かれた数の合計

3つの玉に書かれた数の平均



6つの玉に書かれた数の合計

6つの玉に書かれた数の平均



7つの玉に書かれた数の合計

7つの玉に書かれた数の平均

平均

年 組 名前

/18

■ はこの中にある、いくつかの玉に書かれた数字の合計と平均を求めましょう。

