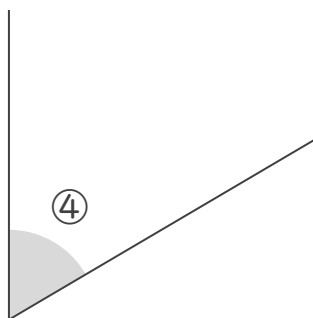
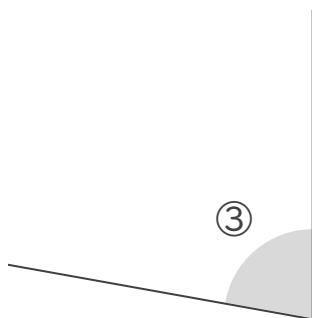
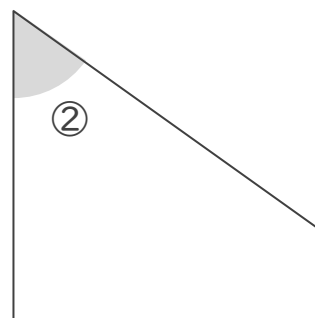
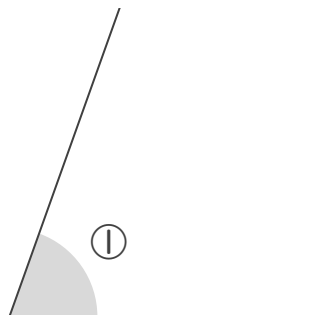


分度器の使い方

____年 ____組 名前

/ 5

■ 次の ① ~ ⑤ の角の大きさを、分度器を使ってはかりましょう。



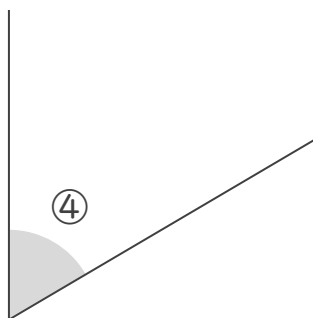
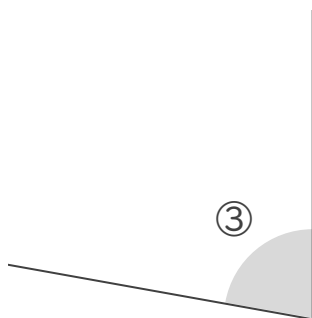
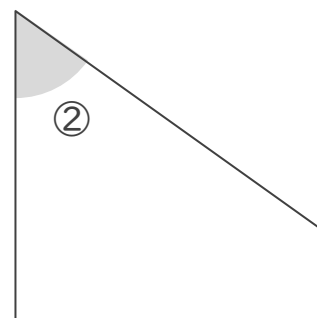
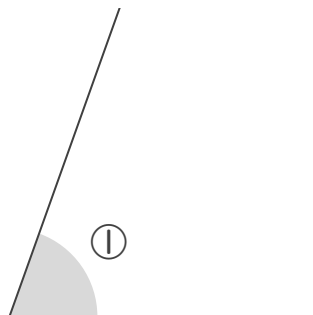
①	°	②	°	③	°	④	°	⑤	°
---	---	---	---	---	---	---	---	---	---

分度器の使い方

____年 ____組 名前

/ 5

■ 次の ① ~ ⑤ の角の大きさを、分度器を使ってはかりましょう。



①	70	°	②	55	°	③	80	°	④	60	°	⑤	25	°
---	----	---	---	----	---	---	----	---	---	----	---	---	----	---