

おおきさくらべ

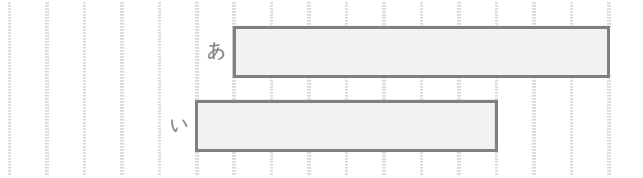
ねん くみ

なまえ

/ 7

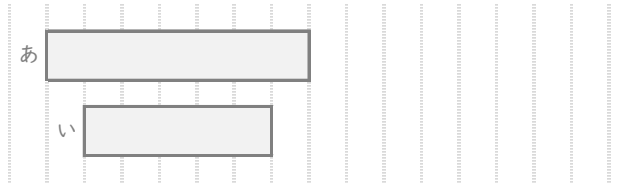
■ あといのりぼんはどちらがながいですか。

①



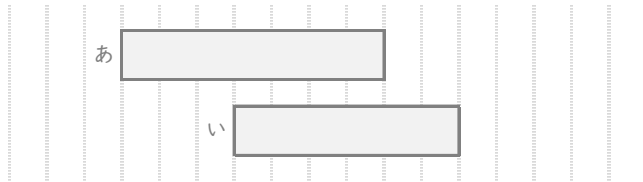
ながいほう

②



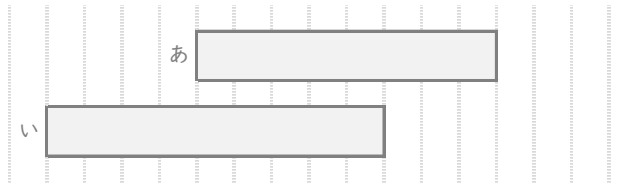
ながいほう

③



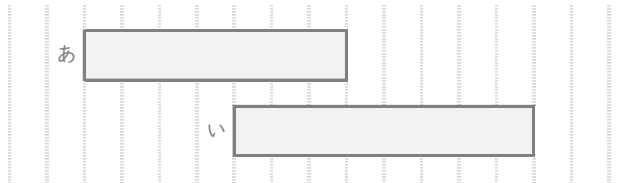
ながいほう

④



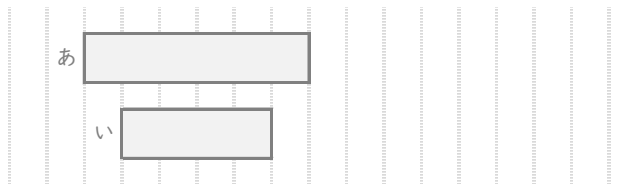
ながいほう

⑤



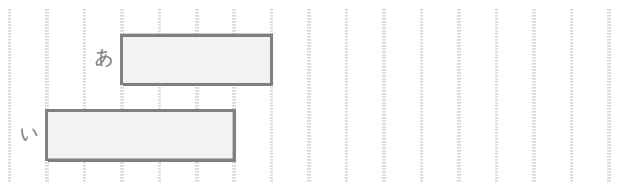
ながいほう

⑥



ながいほう

⑦









ながいほう

おおきさくらべ

ねん くみ
なまえ

/ 7

■ あといのりぼんはどちらがながいですか。

- ①
- | | | |
|---|---|----------|
| あ |  | ← 10 めもり |
| い |  | ← 8 めもり |
- ながいほう
- ②
- | | | |
|---|---|---------|
| あ |  | ← 7 めもり |
| い |  | ← 5 めもり |
- ながいほう
- ③
- | | | |
|---|---|---------|
| あ |  | ← 7 めもり |
| い |  | ← 6 めもり |
- ながいほう
- ④
- | | | |
|---|---|---------|
| あ |  | ← 8 めもり |
| い |  | ← 9 めもり |
- ながいほう
- ⑤
- | | | |
|---|---|---------|
| あ |  | ← 7 めもり |
| い |  | ← 8 めもり |
- ながいほう
- ⑥
- | | | |
|---|---|---------|
| あ |  | ← 6 めもり |
| い |  | ← 4 めもり |
- ながいほう
- ⑦
- | | | |
|---|---|---------|
| あ |  | ← 4 めもり |
| い |  | ← 5 めもり |
- ながいほう