

# おおきさくらべ

ねん くみ

なまえ

/ 7

■ あといのりぼんはどちらがながいですか。

①

あ

い

ながいほう

②

あ

い

ながいほう

③

あ

い

ながいほう

④

あ

い

ながいほう

⑤

あ

い

ながいほう

⑥

あ

い

ながいほう

⑦

あ

い

ながいほう

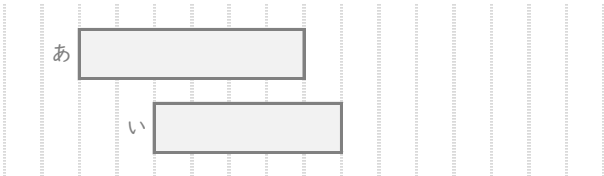
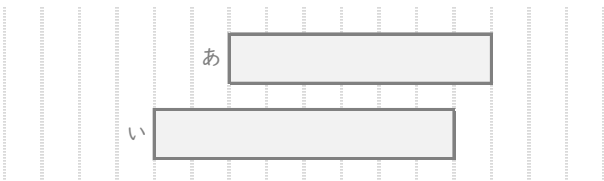
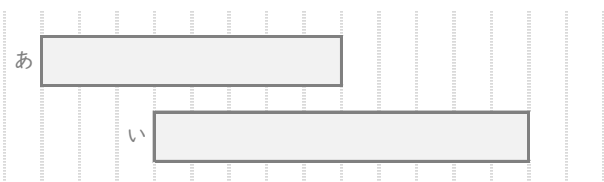
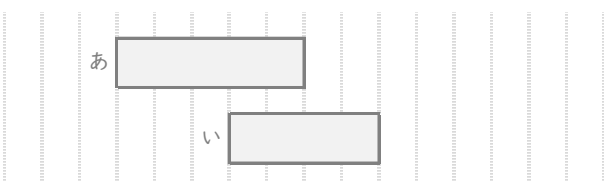
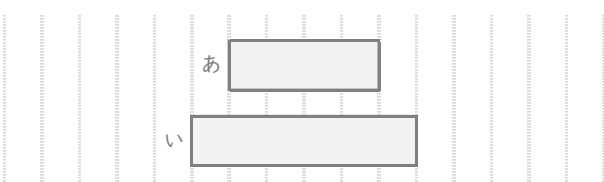
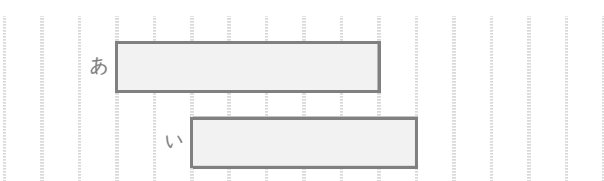
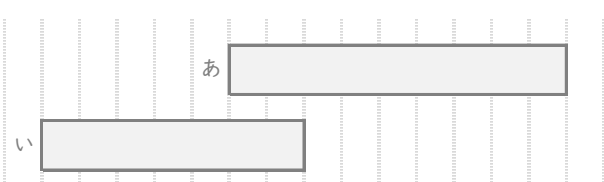
# おおきさくらべ

ねん くみ

なまえ

/ 7

■ あといのりぼんはどちらがながいですか。

①		← 6 めもり ← 5 めもり	ながいほう	<input type="text" value="あ"/>
②		← 7 めもり ← 8 めもり	ながいほう	<input type="text" value="い"/>
③		← 8 めもり ← 10 めもり	ながいほう	<input type="text" value="い"/>
④		← 5 めもり ← 4 めもり	ながいほう	<input type="text" value="あ"/>
⑤		← 4 めもり ← 6 めもり	ながいほう	<input type="text" value="い"/>
⑥		← 7 めもり ← 6 めもり	ながいほう	<input type="text" value="あ"/>
⑦		← 9 めもり ← 7 めもり	ながいほう	<input type="text" value="あ"/>