

おおきさくらべ

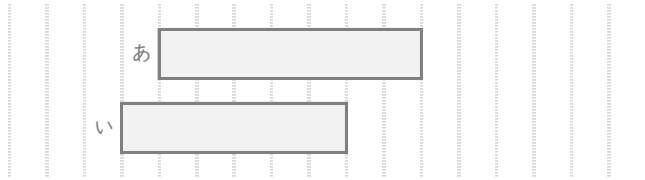
ねん くみ

なまえ

/ 7

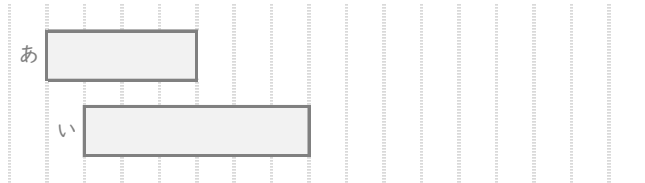
■ あとこのりぼんはどちらがながいですか。

①



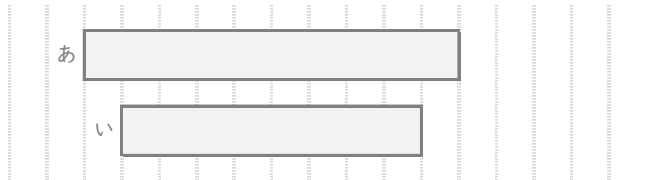
ながいほう

②



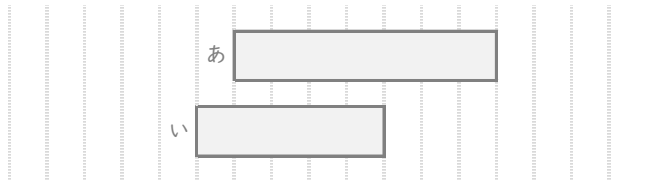
ながいほう

③



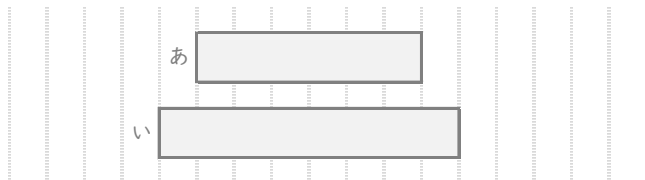
ながいほう

④



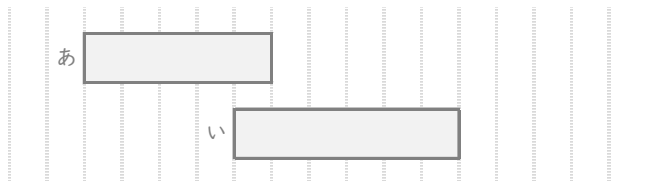
ながいほう

⑤



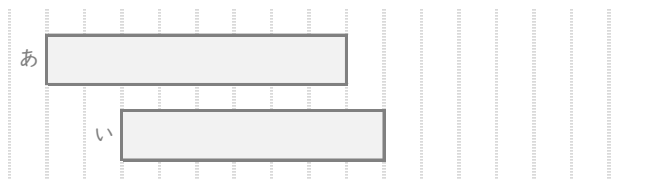
ながいほう

⑥



ながいほう

⑦



ながいほう

おおきさくらべ

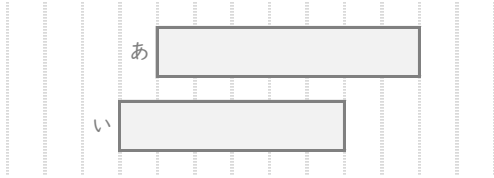
ねん くみ

なまえ

/ 7

■ あといのりぼんはどちらがながいですか。

①



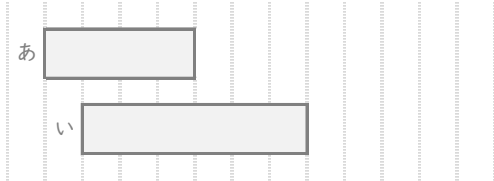
← 7 めもり

← 6 めもり

ながいほう

あ

②



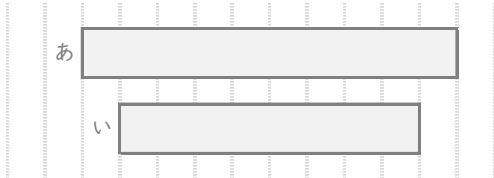
← 4 めもり

← 6 めもり

ながいほう

い

③



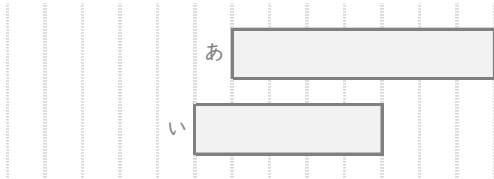
← 10 めもり

← 8 めもり

ながいほう

あ

④



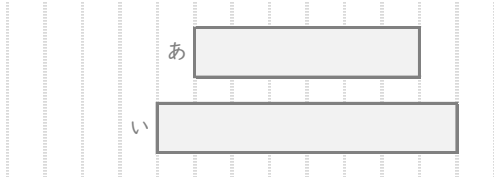
← 7 めもり

← 5 めもり

ながいほう

あ

⑤



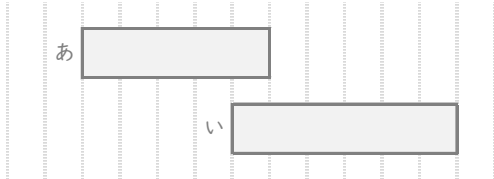
← 6 めもり

← 8 めもり

ながいほう

い

⑥



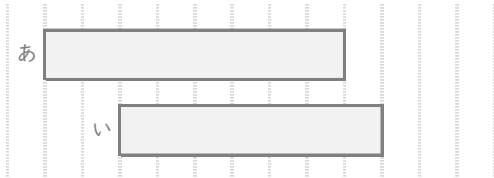
← 5 めもり

← 6 めもり

ながいほう

い

⑦



← 8 めもり

← 7 めもり

ながいほう

あ