

箱ひげ図

年 組 名前

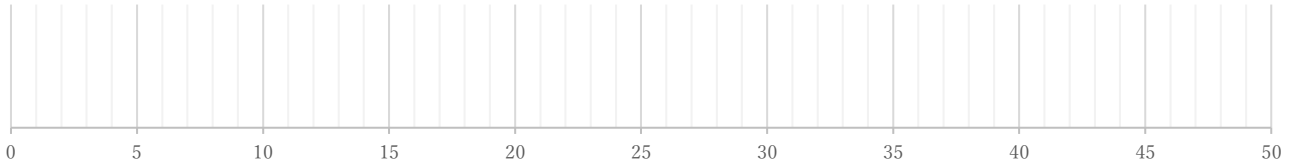
/ 4

■ 次のデータは50点満点のテストを何人かが受けたときの得点である。これを見て箱ひげ図をかきなさい。

①

19 23 23 26 29 33 34 41 44 47

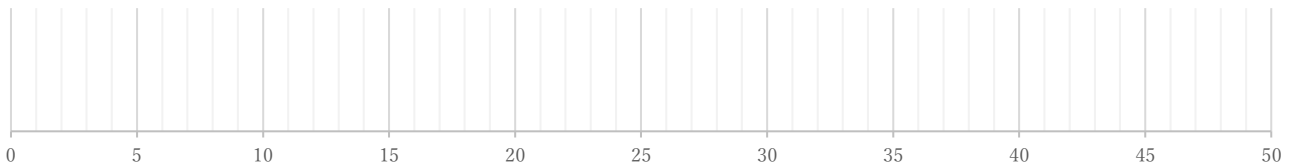
(単位:点)



②

11 19 21 22 23 26 26 28 28 36 36 38 43 46

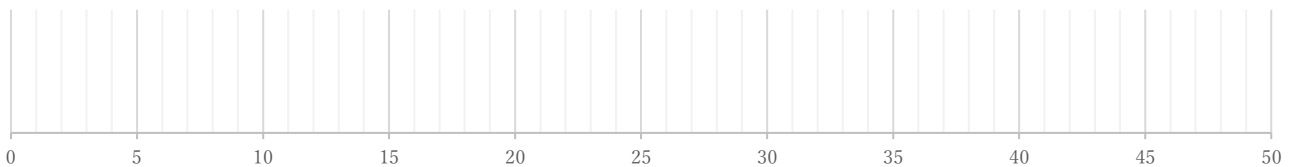
(単位:点)



③

26 26 31 31 32 32 34 35 35 35 37

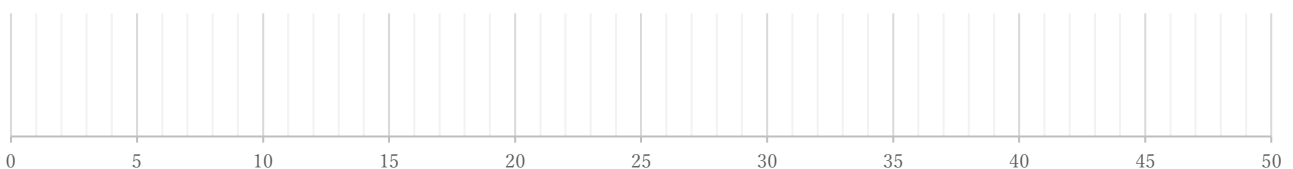
(単位:点)



④

13 14 18 22 23 25 26 28 31 31 34 35 42 43 48

(単位:点)



箱ひげ図

年 組 名前

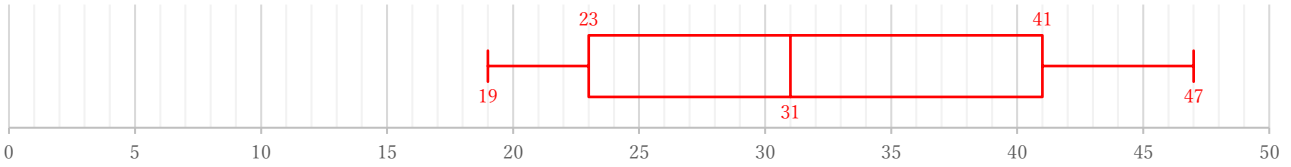
/ 4

■ 次のデータは50点満点のテストを何人かが受けたときの得点である。これを見て箱ひげ図をかきなさい。

①

19 23 23 26 29 33 34 41 44 47

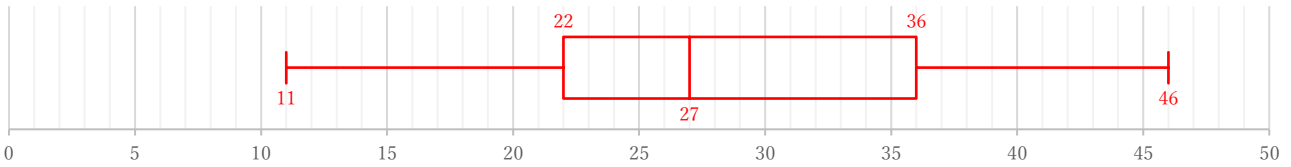
(単位: 点)



②

11 19 21 22 23 26 26 28 28 36 36 38 43 46

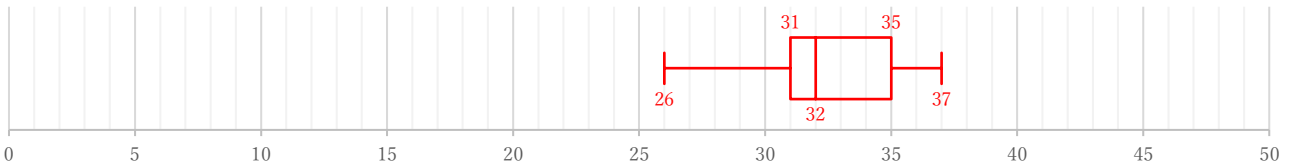
(単位: 点)



③

26 26 31 31 32 32 34 35 35 35 37

(単位: 点)



④

13 14 18 22 23 25 26 28 31 31 34 35 42 43 48

(単位: 点)

