

箱ひげ図

年 組 名前

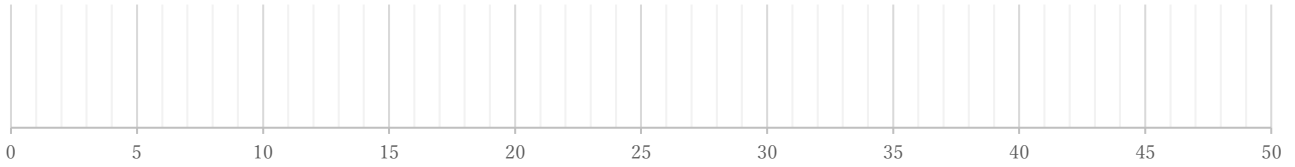
/ 4

■ 次のデータは50点満点のテストを何人かが受けたときの得点である。これを見て箱ひげ図をかきなさい。

①

17 26 27 28 29 31 32 39 43 49

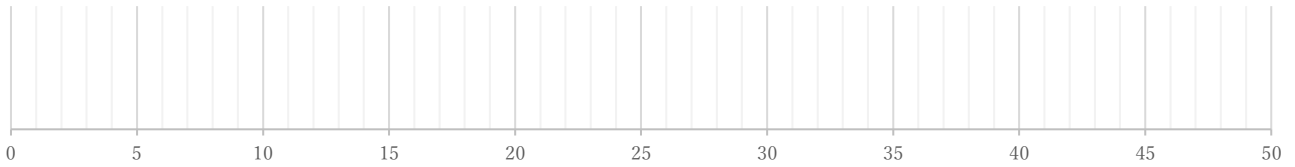
(単位:点)



②

12 23 24 24 30 30 31 35 38 40 42 42 43 43

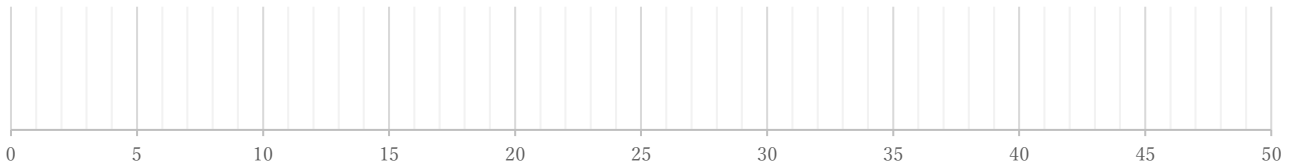
(単位:点)



③

14 16 23 23 25 26 26 26 27 28 29 30 31 34 35 38

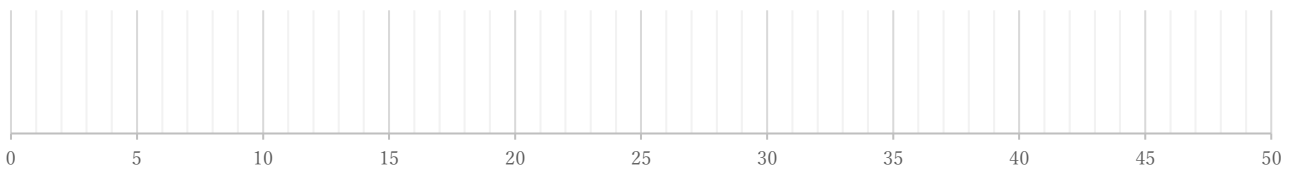
(単位:点)



④

13 16 17 20 23 26 31 33 33 34 37 38 38 44 50

(単位:点)



箱ひげ図

年 組 名前

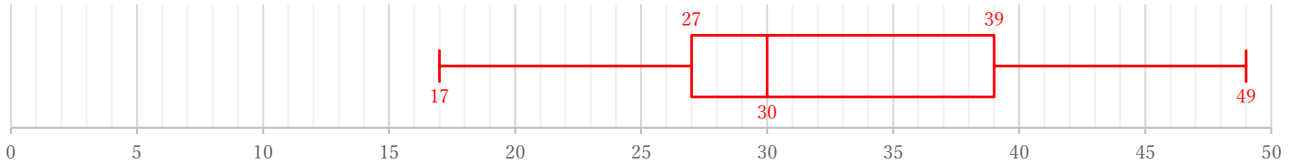
/ 4

■ 次のデータは50点満点のテストを何人かが受けたときの得点である。これを見て箱ひげ図をかきなさい。

①

17 26 27 28 29 31 32 39 43 49

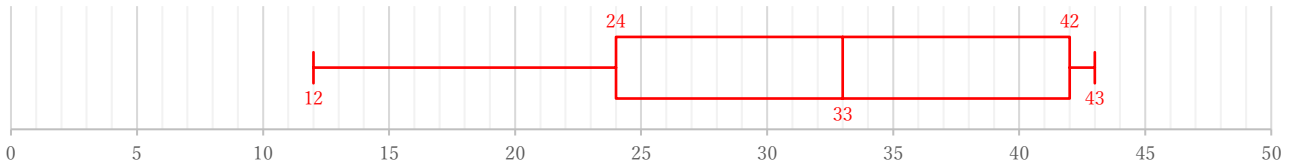
(単位: 点)



②

12 23 24 24 30 30 31 35 38 40 42 42 43 43

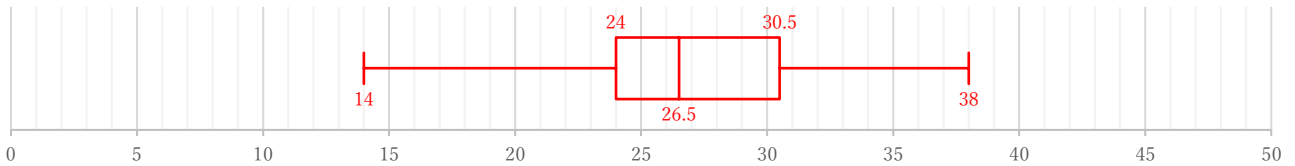
(単位: 点)



③

14 16 23 23 25 26 26 26 27 28 29 30 31 34 35 38

(単位: 点)



④

13 16 17 20 23 26 31 33 33 34 37 38 38 44 50

(単位: 点)

