

箱ひげ図

年 組 名前

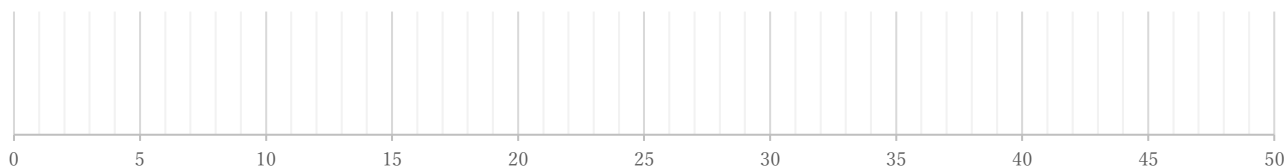
/ 4

■ 次のデータは50点満点のテストを何人かが受けたときの得点である。これを見て箱ひげ図をかきなさい。

①

19 20 24 25 27 30 32 36 37 38

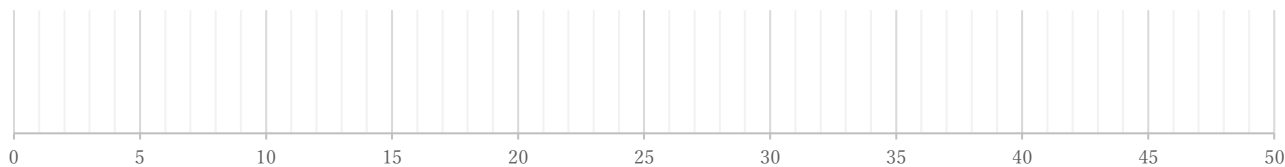
(単位: 点)



②

20 20 21 25 30 33 33 34 38 39 50

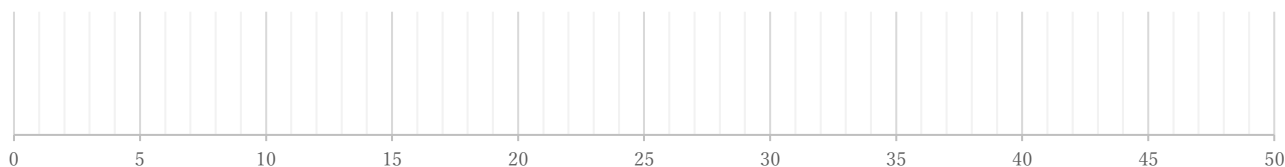
(単位: 点)



③

7 14 15 16 17 22 26 26 33 33 35 37 40 49

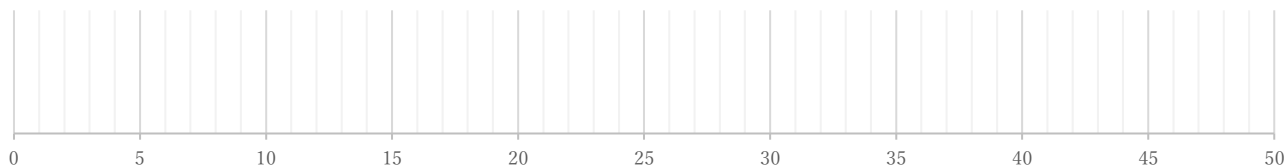
(単位: 点)



④

5 7 21 23 23 27 32 32 45 45 48 49 49

(単位: 点)



箱ひげ図

年 組 名前

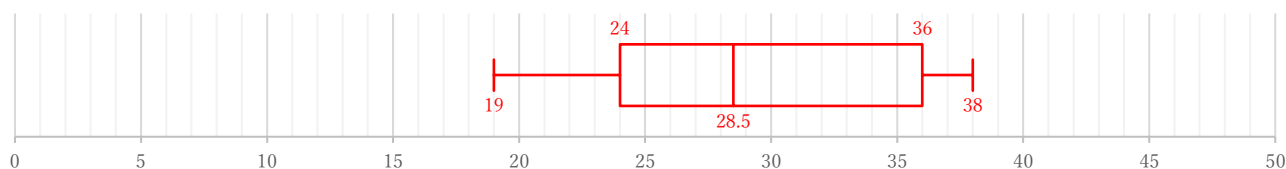
/ 4

■ 次のデータは50点満点のテストを何人かが受けたときの得点である。これを見て箱ひげ図をかきなさい。

①

19 20 24 25 27 30 32 36 37 38

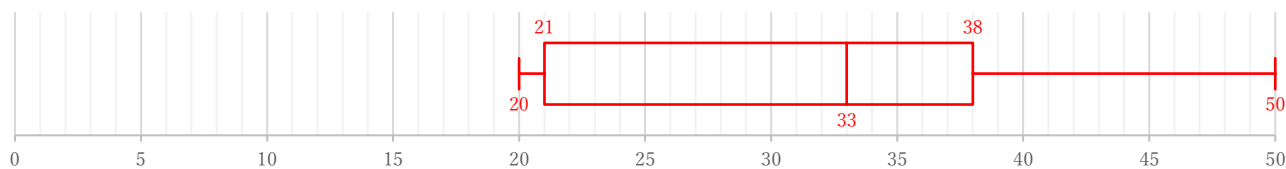
(単位: 点)



②

20 20 21 25 30 33 33 34 38 39 50

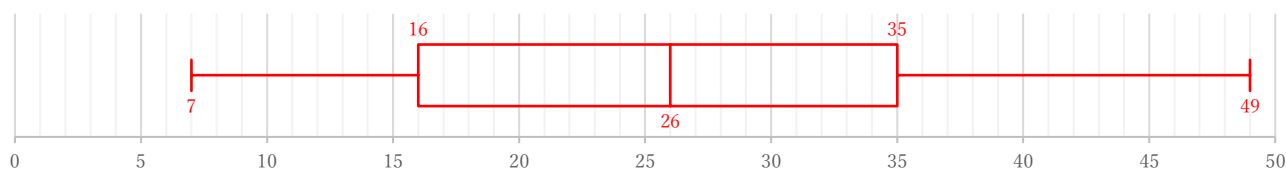
(単位: 点)



③

7 14 15 16 17 22 26 26 33 33 35 37 40 49

(単位: 点)



④

5 7 21 23 23 27 32 32 45 45 48 49 49

(単位: 点)

