

箱ひげ図

年 組 名前

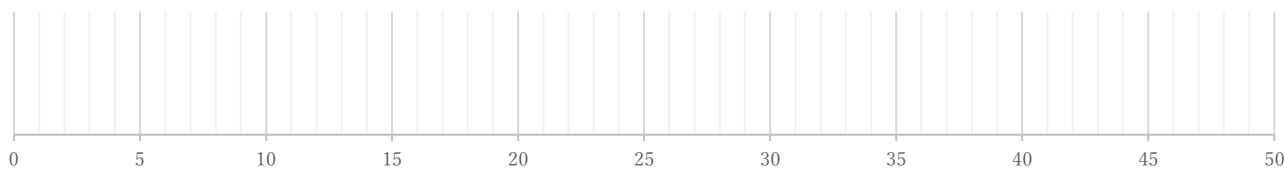
/ 4

■ 次のデータは50点満点のテストを何人かが受けたときの得点である。これを見て箱ひげ図をかきなさい。

①

4 22 28 30 30 34 34 35 37 39 39 41 43 44

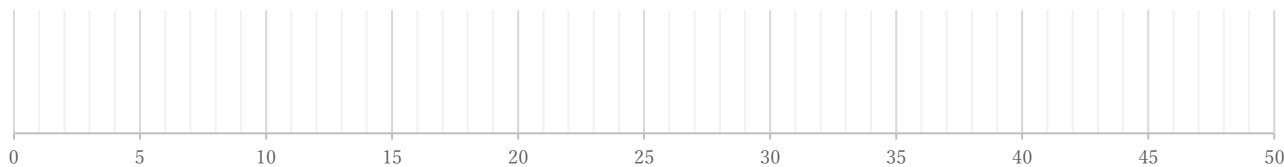
(単位: 点)



②

11 19 21 22 22 26 26 31 31 31 34 35

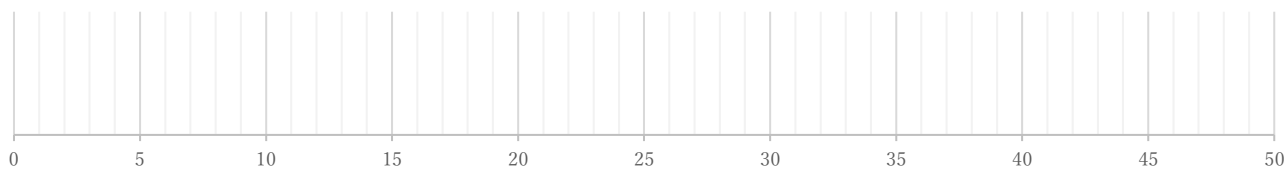
(単位: 点)



③

12 14 16 21 24 31 33 33 34 36 46 50 50

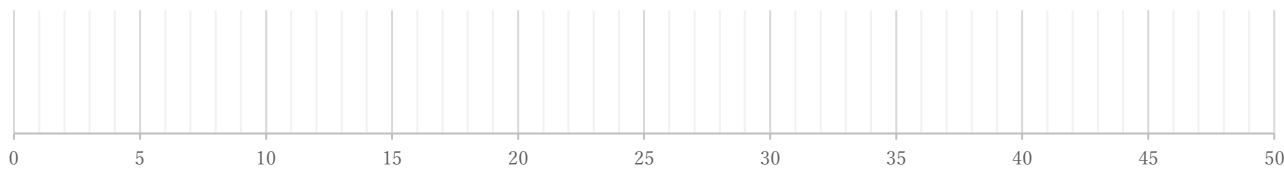
(単位: 点)



④

18 25 26 28 29 30 31 33 33 35 36 37 43 44 46

(単位: 点)



箱ひげ図

年 組 名前

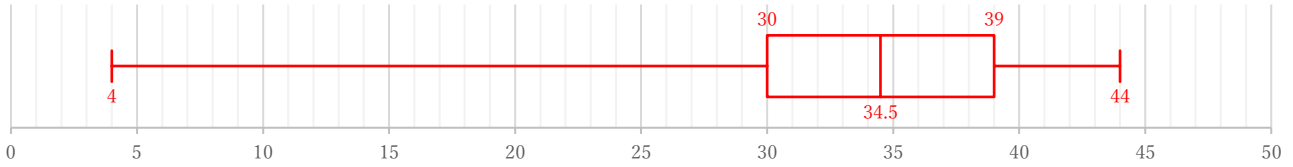
/ 4

■ 次のデータは50点満点のテストを何人かが受けたときの得点である。これを見て箱ひげ図をかきなさい。

①

4 22 28 30 30 34 34 35 37 39 39 41 43 44

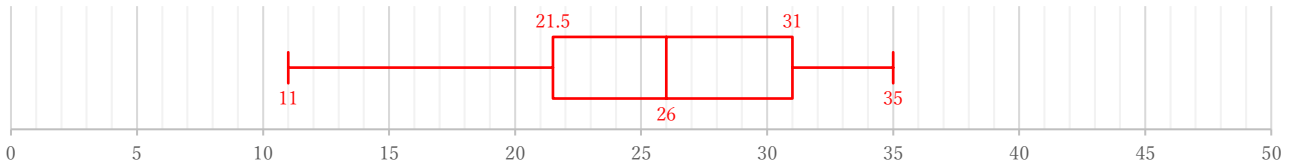
(単位: 点)



②

11 19 21 22 22 26 26 31 31 31 34 35

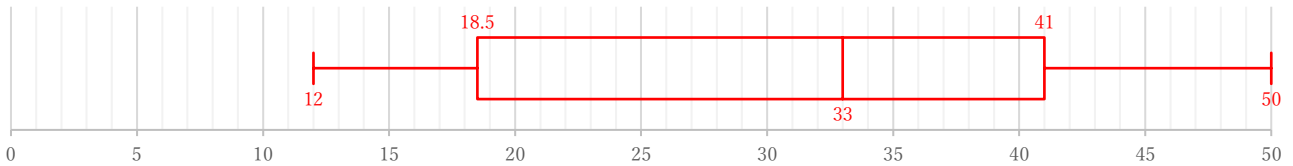
(単位: 点)



③

12 14 16 21 24 31 33 33 34 36 46 50 50

(単位: 点)



④

18 25 26 28 29 30 31 33 33 35 36 37 43 44 46

(単位: 点)

