

箱ひげ図

年 組 名前

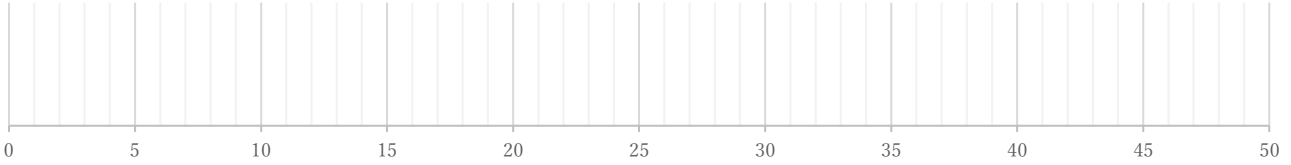
/ 4

■ 次のデータは50点満点のテストを何人かが受けたときの得点である。これを見て箱ひげ図をかきなさい。

①

11 23 24 24 28 29 33 33 35 36 43 43 45 46

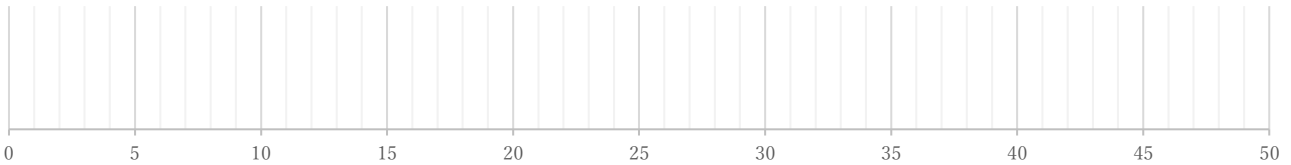
(単位:点)



②

24 26 28 30 31 35 36 37 38 40 42 46 47 50 50 50

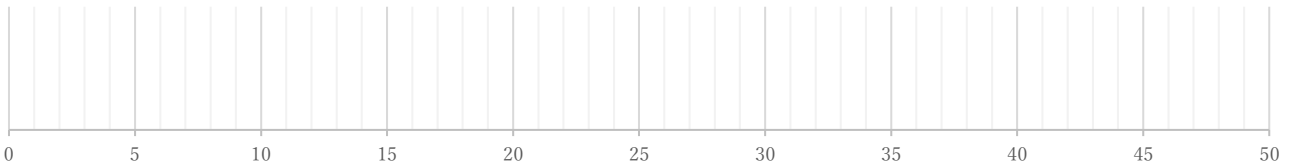
(単位:点)



③

10 13 17 25 26 26 28 29 37 38

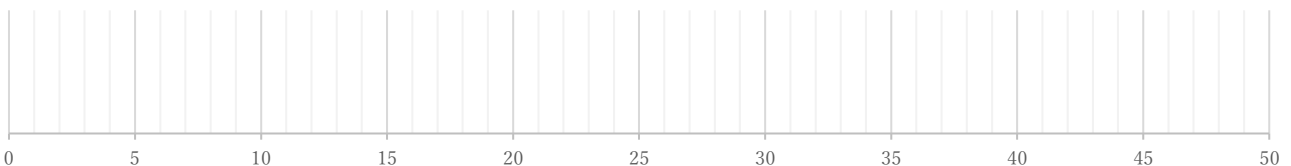
(単位:点)



④

11 20 25 30 30 30 31 32 33 41 45

(単位:点)



箱ひげ図

年 組 名前

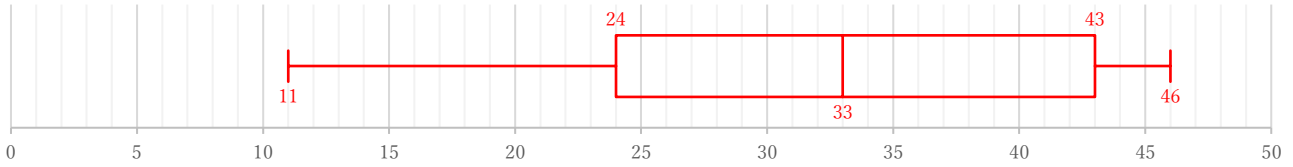
/ 4

■ 次のデータは50点満点のテストを何人かが受けたときの得点である。これを見て箱ひげ図をかきなさい。

①

11 23 24 24 28 29 33 33 35 36 43 43 45 46

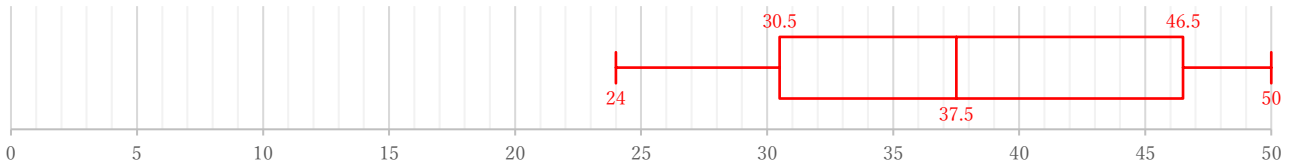
(単位: 点)



②

24 26 28 30 31 35 36 37 38 40 42 46 47 50 50 50

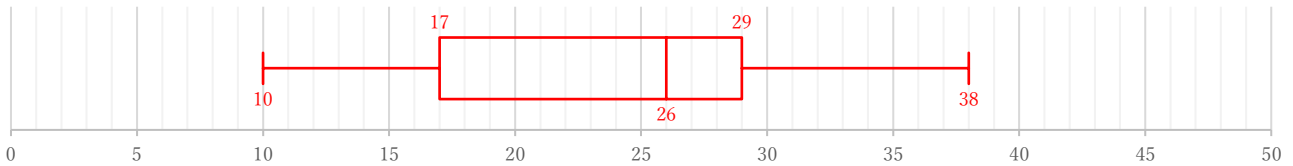
(単位: 点)



③

10 13 17 25 26 26 28 29 37 38

(単位: 点)



④

11 20 25 30 30 30 31 32 33 41 45

(単位: 点)

