

# 箱ひげ図

年 組 名前

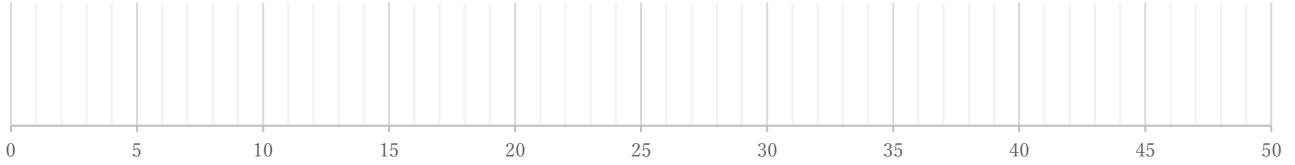
/ 4

■ 次のデータは50点満点のテストを何人かが受けたときの得点である。これを見て箱ひげ図をかきなさい。

①

6 15 15 20 21 25 30 31 35 37

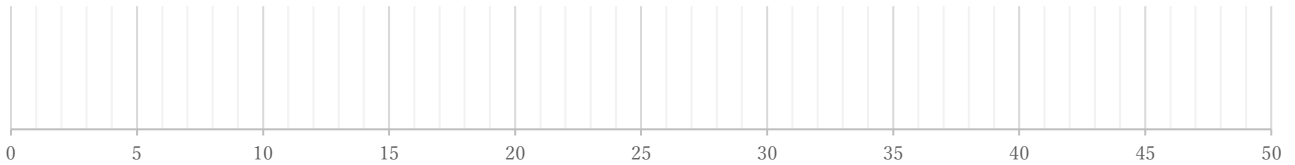
(単位:点)



②

16 22 22 26 26 27 29 32 33 37 38 38 39 41 45 49

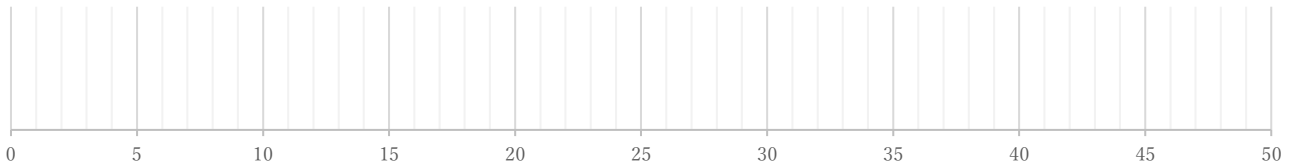
(単位:点)



③

9 18 19 20 20 21 22 24 26 27 30 31 33 37 46

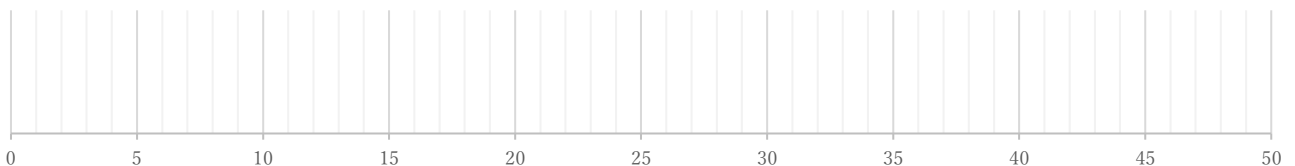
(単位:点)



④

22 22 23 23 26 27 27 27 32 34 34 35

(単位:点)



# 箱ひげ図

年 組 名前

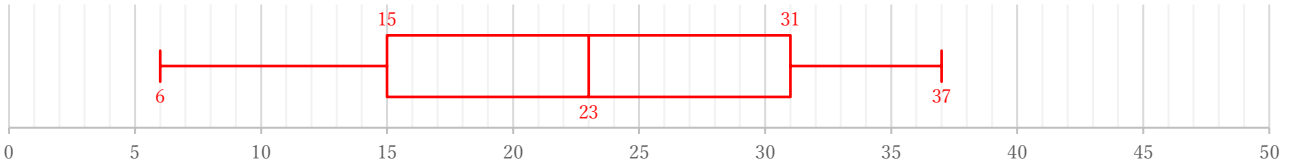
/ 4

■ 次のデータは50点満点のテストを何人かが受けたときの得点である。これを見て箱ひげ図をかきなさい。

①

6 15 15 20 21 25 30 31 35 37

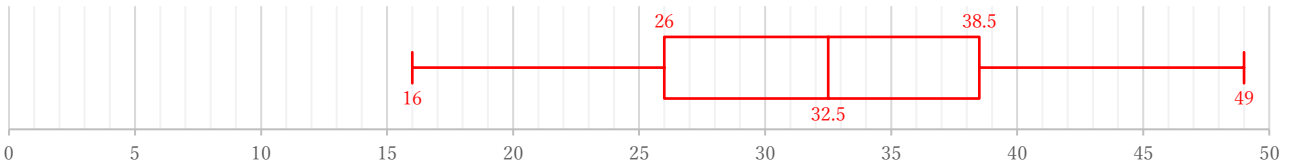
(単位: 点)



②

16 22 22 26 26 27 29 32 33 37 38 38 39 41 45 49

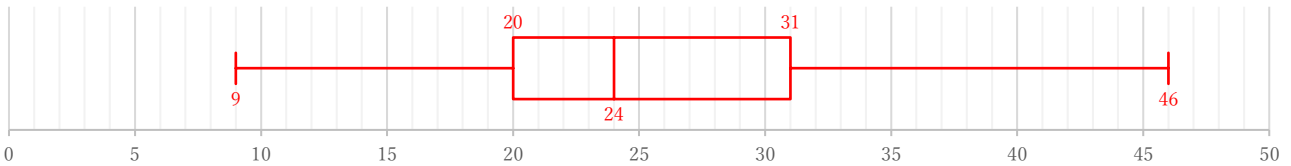
(単位: 点)



③

9 18 19 20 20 21 22 24 26 27 30 31 33 37 46

(単位: 点)



④

22 22 23 23 26 27 27 27 32 34 34 35

(単位: 点)

