

箱ひげ図

年 組 名前

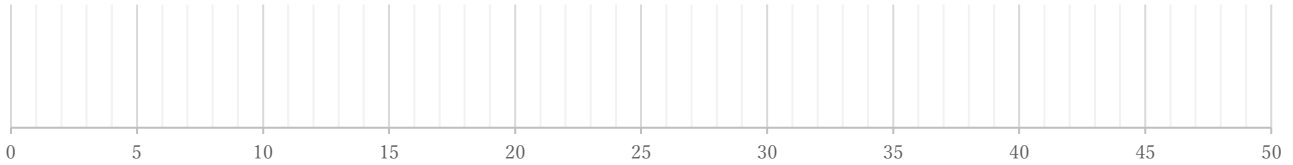
/ 4

■ 次のデータは50点満点のテストを何人かが受けたときの得点である。これを見て箱ひげ図をかきなさい。

①

19 20 22 23 24 28 29 31 32 35 37 37 38 44 46

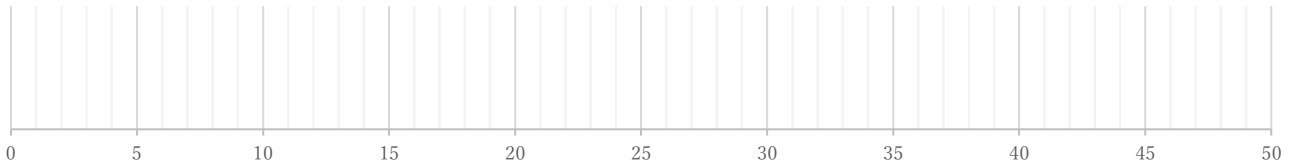
(単位:点)



②

22 22 23 25 28 28 33 34 34 36 38 38 41

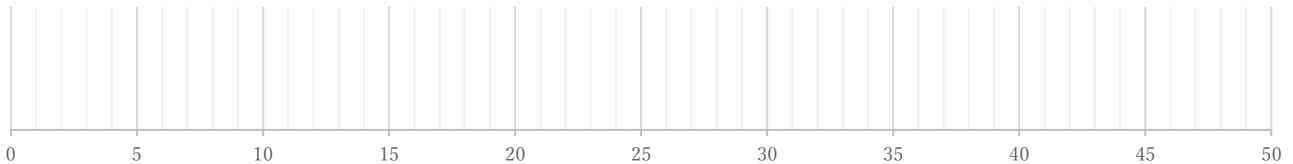
(単位:点)



③

10 11 15 17 19 22 23 23 25 27 28 29 29 36

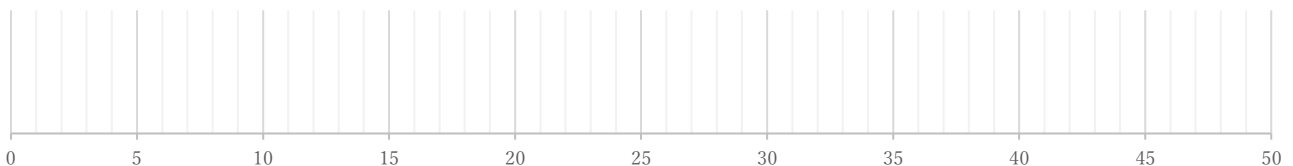
(単位:点)



④

26 30 31 31 33 35 35 35 36 36 40

(単位:点)



箱ひげ図

年 組 名前

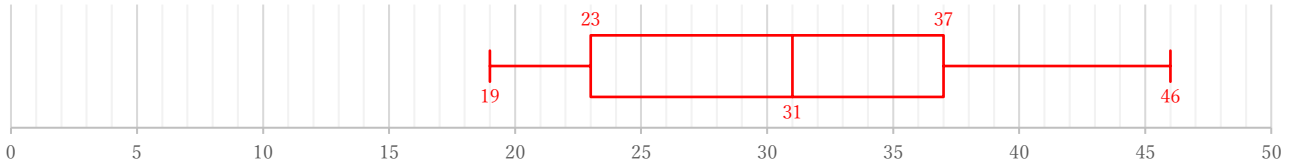
/ 4

■ 次のデータは50点満点のテストを何人かが受けたときの得点である。これを見て箱ひげ図をかきなさい。

①

19 20 22 23 24 28 29 31 32 35 37 37 38 44 46

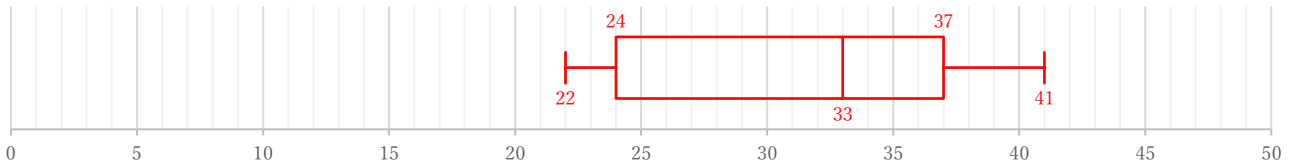
(単位:点)



②

22 22 23 25 28 28 33 34 34 36 38 38 41

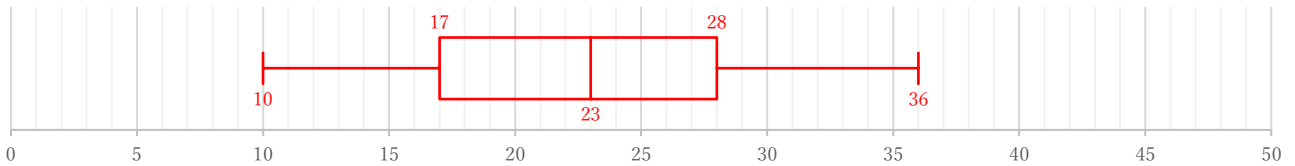
(単位:点)



③

10 11 15 17 19 22 23 23 25 27 28 29 29 36

(単位:点)



④

26 30 31 31 33 35 35 35 36 36 40

(単位:点)

