

箱ひげ図

____年 組 名前

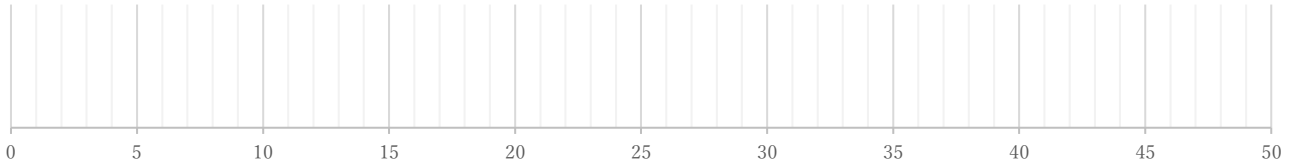
/ 4

■ 次のデータは50点満点のテストを何人かが受けたときの得点である。これを見て箱ひげ図をかきなさい。

①

22 25 26 34 37 37 38 41 42 43 45 48 50 50 50

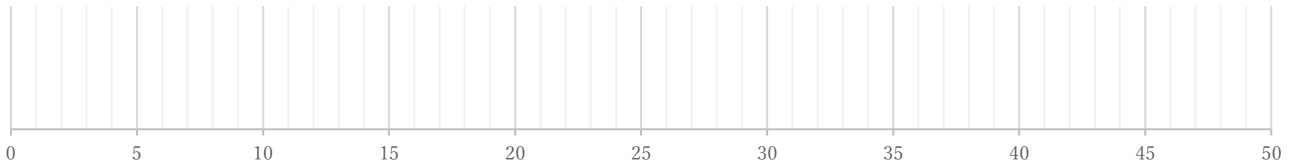
(単位:点)



②

16 25 25 27 33 34 37 38 38 39 41

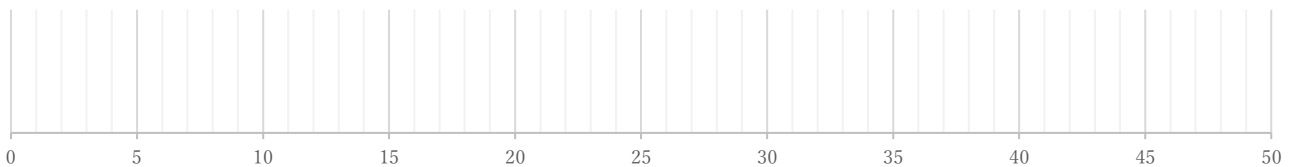
(単位:点)



③

6 9 17 24 24 25 27 27 34 38 45 46

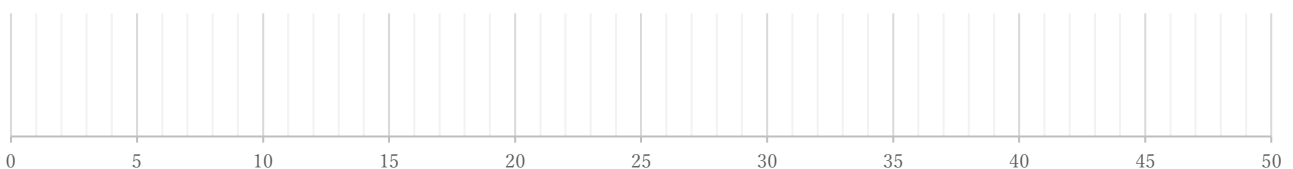
(単位:点)



④

11 16 17 19 20 21 21 24 25 26 28 28 29 31

(単位:点)



箱ひげ図

年 組 名前

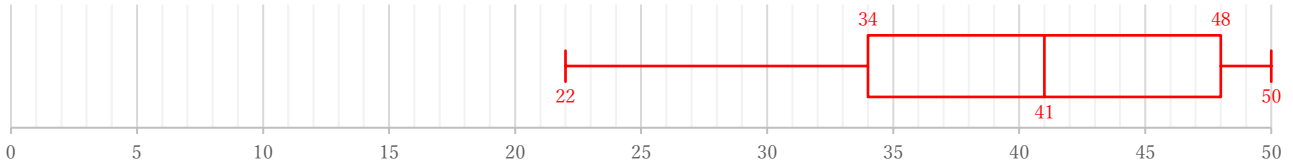
/ 4

■ 次のデータは50点満点のテストを何人かが受けたときの得点である。これを見て箱ひげ図をかきなさい。

①

22 25 26 34 37 37 38 41 42 43 45 48 50 50 50

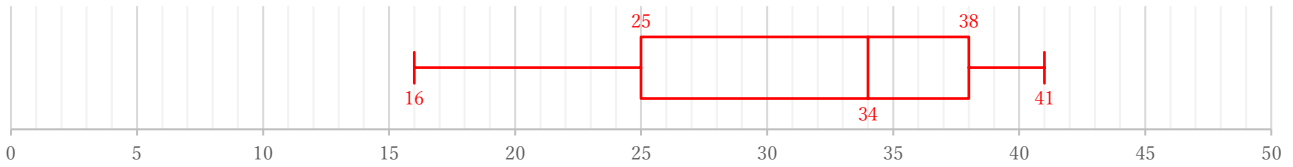
(単位: 点)



②

16 25 25 27 33 34 37 38 38 39 41

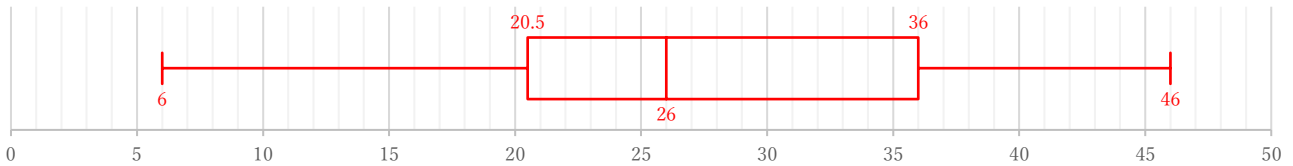
(単位: 点)



③

6 9 17 24 24 25 27 27 34 38 45 46

(単位: 点)



④

11 16 17 19 20 21 21 24 25 26 28 28 29 31

(単位: 点)

