


数直線と小数

年 組 名前

/ 6

■ 次の小数を数直線の上に表してみましょう。

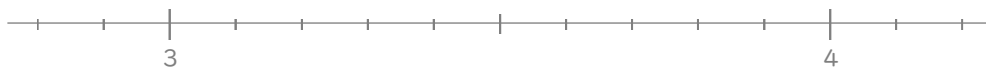
① 0.6



② 1.2



③ 3.7



④ 5.1



⑤ 6.4



⑥ 8.5



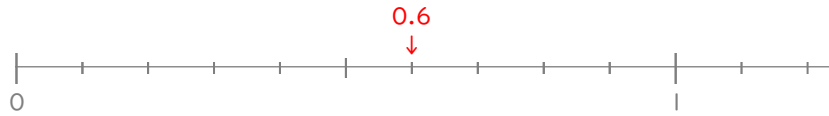
数直線と小数

年 組 名前

/ 6

■ 次の小数を数直線の上に表してみましょう。

① 0.6



② 1.2



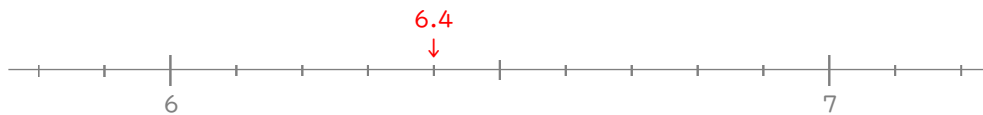
③ 3.7



④ 5.1



⑤ 6.4



⑥ 8.5

