


数直線と小数

年 組 名前

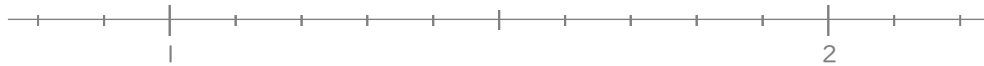
/ 6

■ 次の小数を数直線の上に表してみましょう。

① 0.4



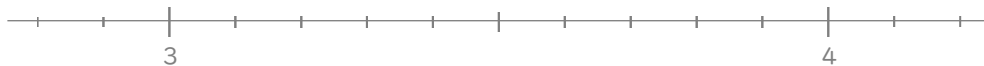
② 1.8



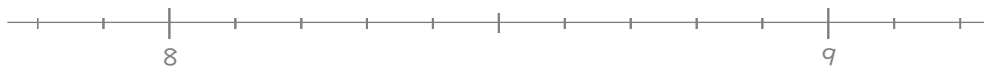
③ 2.9



④ 3.6



⑤ 8.3



⑥ 9.7



数直線と小数

年 組 名前

/ 6

■ 次の小数を数直線の上に表してみましょう。

① 0.4



② 1.8



③ 2.9



④ 3.6



⑤ 8.3



⑥ 9.7

