


数直線と小数

年 組 名前

/ 6

■ 次の小数を数直線の上に表してみましょう。

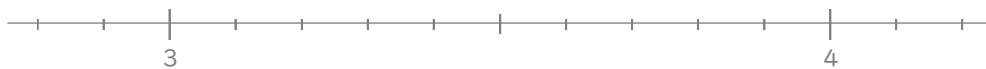
① 0.4



② 1.8



③ 3.5



④ 6.6



⑤ 7.3



⑥ 8.2



数直線と小数

年 組 名前

/ 6

■ 次の小数を数直線の上に表してみましょう。

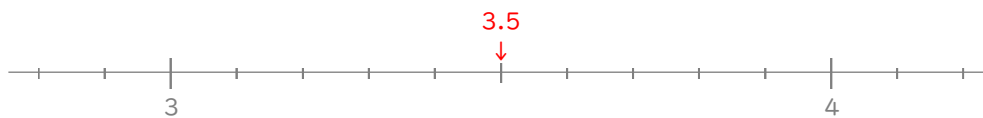
① 0.4



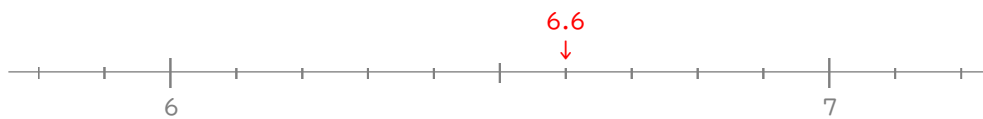
② 1.8



③ 3.5



④ 6.6



⑤ 7.3



⑥ 8.2

