


数直線と小数

年 組 名前

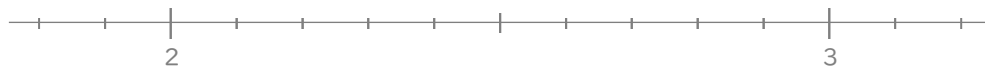
/ 6

■ 次の小数を数直線の上に表してみましょう。

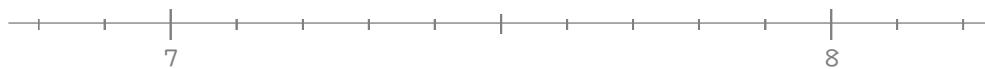
① 0.9



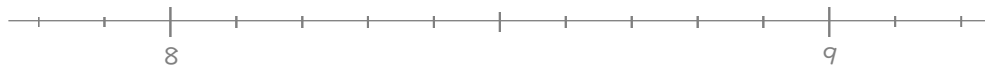
② 2.8



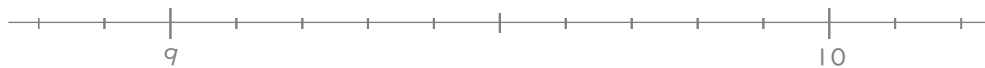
③ 7.1



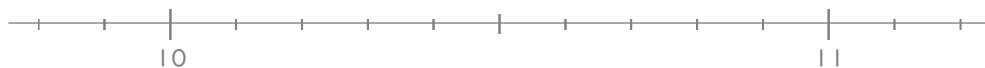
④ 8.7



⑤ 9.2



⑥ 10.6



数直線と小数

年 組 名前

/ 6

■ 次の小数を数直線の上に表してみましょう。

① 0.9



② 2.8



③ 7.1



④ 8.7



⑤ 9.2



⑥ 10.6

