


数直線と小数

年 組 名前

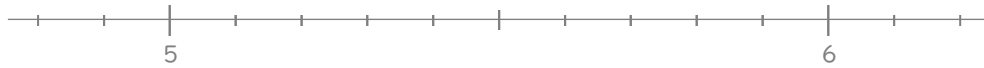
/ 6

■ 次の小数を数直線の上に表してみましょう。

① 0.8



② 5.1



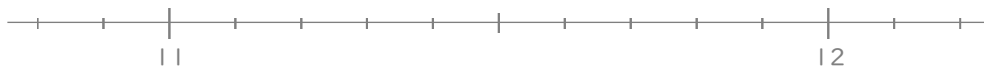
③ 7.7



④ 10.3



⑤ 11.6



⑥ 12.5



数直線と小数

年 組 名前

/ 6

■ 次の小数を数直線の上に表してみましょう。

① 0.8



② 5.1



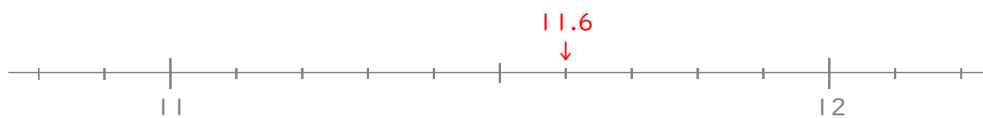
③ 7.7



④ 10.3



⑤ 11.6



⑥ 12.5

