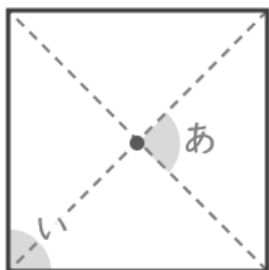


■ 次の正多角形 についての問題に答えましょう。

(1) 正方形

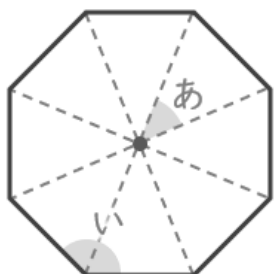


① あ で示された角度を答えましょう。

② 4こ の角の大きさの和を答えましょう。

③ 1この角(い の部分) の大きさを答えましょう。

(2) 正八角形



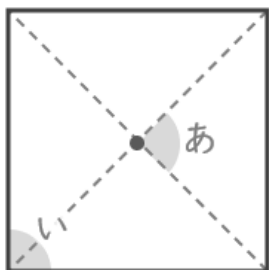
④ あ で示された角度を答えましょう。

⑤ 8こ の角の大きさの和を答えましょう。

⑥ 1この角(い の部分) の大きさを答えましょう。

■ 次の正多角形 についての問題に答えましょう。

(1) 正方形



① あ で示された角度を答えましょう。

$$360 \div 4 = 90$$

90°

② 4こ の角の大きさの和を答えましょう。

$$(4 - 2) \times 180 = 360$$

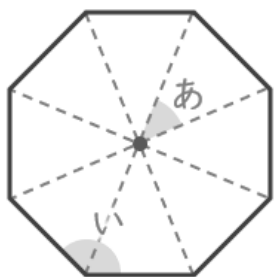
360°

③ 1この角(い の部分) の大きさを答えましょう。

$$360 \div 4 = 90$$

90°

(2) 正八角形



④ あ で示された角度を答えましょう。

$$360 \div 8 = 45$$

45°

⑤ 8こ の角の大きさの和を答えましょう。

$$(8 - 2) \times 180 = 1080$$

1080°

⑥ 1この角(い の部分) の大きさを答えましょう。

$$1080 \div 8 = 135$$

135°