

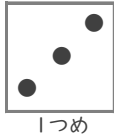
3つのかずの たしざん

ねん くみ
なまえ

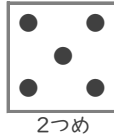
/ 5

■ 3つのさいころをなげます。3つのさいころの でためのかず をたしましょう。

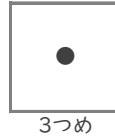
①



1つめ



2つめ

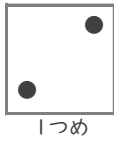


3つめ

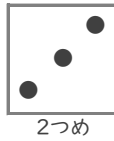
(しき)

たしたこたえ

②



1つめ



2つめ




3つめ

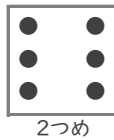
(しき)

たしたこたえ

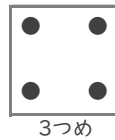
③



1つめ



2つめ



3つめ

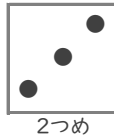
(しき)

たしたこたえ

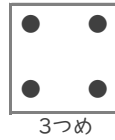
④



1つめ



2つめ

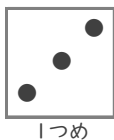


3つめ

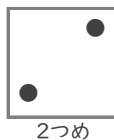
(しき)

たしたこたえ


⑤



1つめ



2つめ



3つめ

(しき)

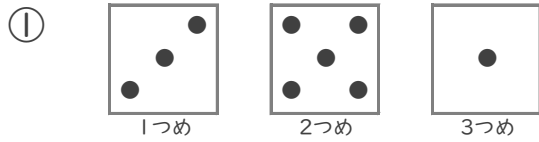
たしたこたえ

3つのかずの たしざん

ねん くみ
なまえ

/ 5

■ 3つのさいころをなげます。3つのさいころの でためのかず をたしましょう。

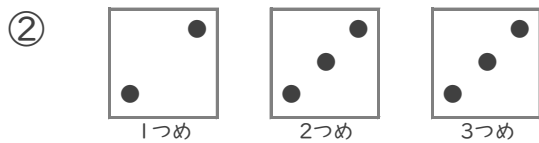


(しき)

$$3 + 5 + 1 = 9$$

たしたこたえ

9

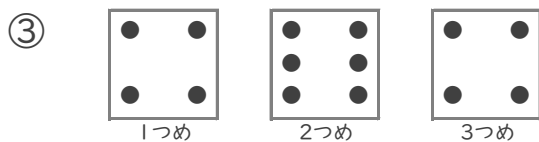


(しき)

$$2 + 3 + 3 = 8$$

たしたこたえ

8

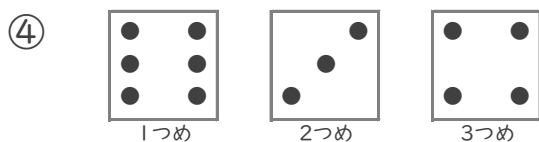


(しき)

$$4 + 6 + 4 = 14$$

たしたこたえ

14

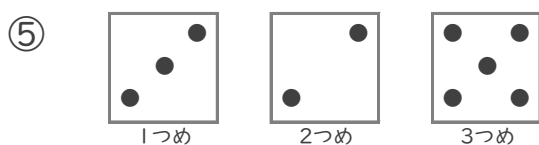


(しき)

$$6 + 3 + 4 = 13$$

たしたこたえ

13



(しき)

$$3 + 2 + 5 = 10$$

たしたこたえ

10