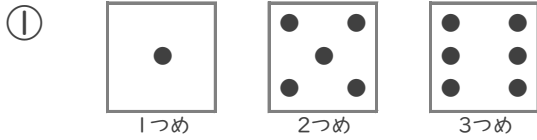


# 3つのかずの たしざん

ねん ぐみ  
なまえ

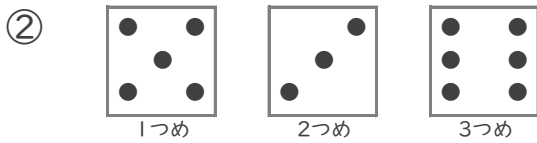
/ 5

■ 3つのさいころをなげます。3つのさいころの でためのかず をたしましょう。



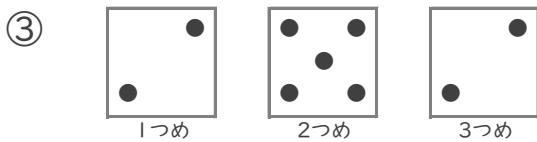
(しき)

たしたこたえ



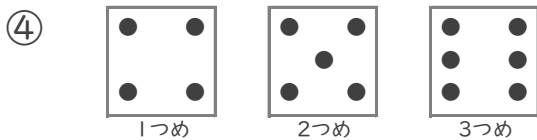
(しき)

たしたこたえ



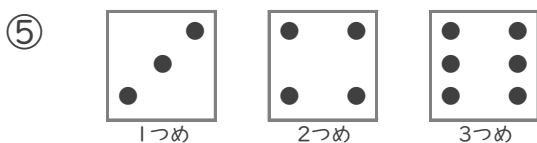
(しき)

たしたこたえ



(しき)

たしたこたえ



(しき)

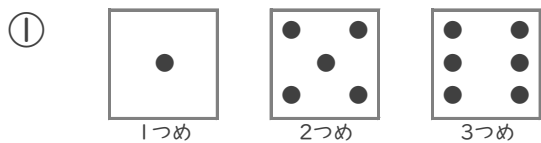
たしたこたえ

# 3つのかずの たしざん

ねん くみ  
なまえ

/ 5

■ 3つのさいころをなげます。3つのさいころの でためのかず をたしましょう。

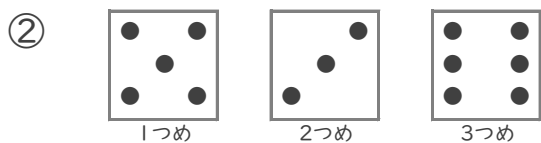


(しき)

$$1 + 5 + 6 = 12$$

たしたこたえ

12

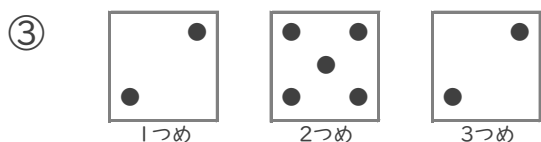


(しき)

$$5 + 3 + 6 = 14$$

たしたこたえ

14

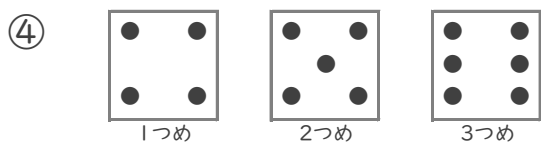


(しき)

$$2 + 5 + 2 = 9$$

たしたこたえ

9

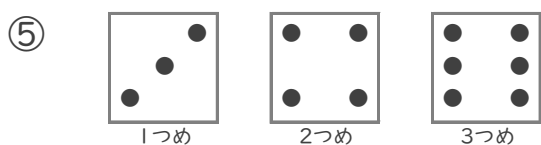


(しき)

$$4 + 5 + 6 = 15$$

たしたこたえ

15



(しき)

$$3 + 4 + 6 = 13$$

たしたこたえ

13