


3つのかずの たしざん

ねん ぐみ
なまえ


/ 5

■ 3つのさいころをなげます。3つのさいころの でのためのかず をたしましょう。


①



1つめ



2つめ




3つめ


(しき)

たしたこたえ


②



1つめ



2つめ




3つめ


(しき)

たしたこたえ


③



1つめ



2つめ




3つめ


(しき)

たしたこたえ


④



1つめ



2つめ




3つめ


(しき)

たしたこたえ


⑤



1つめ



2つめ



3つめ

(しき)

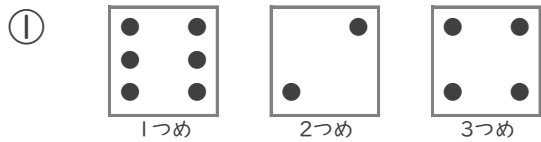
たしたこたえ

3つのかずの たしざん

ねん くみ
なまえ

/ 5

■ 3つのさいころをなげます。3つのさいころの でためのかず をたしましょう。

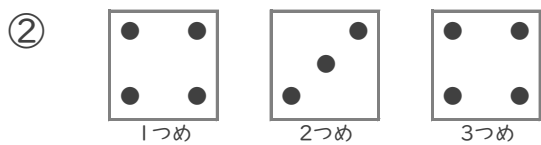


(しき)

$$6 + 2 + 4 = 12$$

たしたこたえ

12

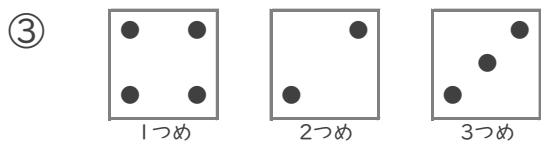


(しき)

$$4 + 3 + 4 = 11$$

たしたこたえ

11

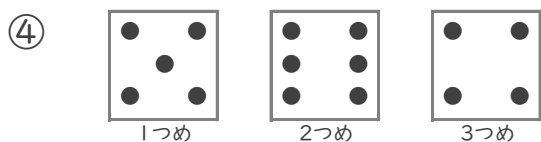


(しき)

$$4 + 2 + 3 = 9$$

たしたこたえ

9

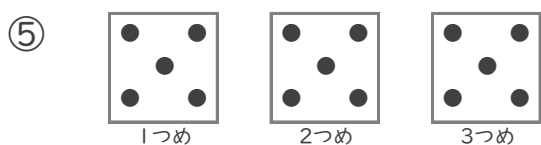


(しき)

$$5 + 6 + 4 = 15$$

たしたこたえ

15



(しき)

$$5 + 5 + 5 = 15$$

たしたこたえ

15