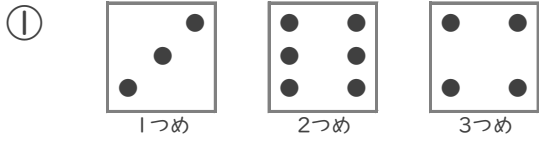


3つのかずの たしざん

ねん くみ
なまえ

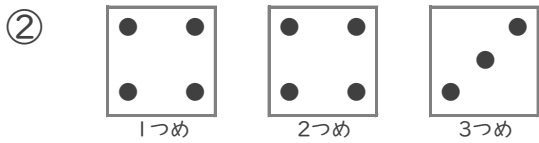
/ 5

■ 3つのさいころをなげます。3つのさいころの でためのかず をたしましょう。



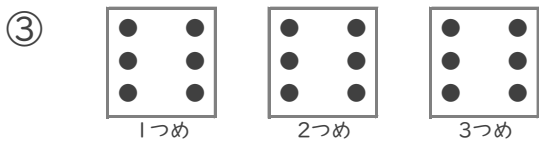
(しき)

たしたこたえ



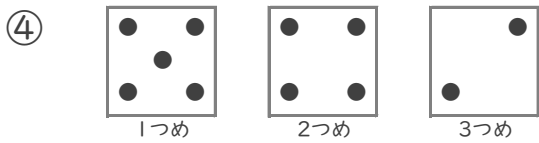
(しき)

たしたこたえ



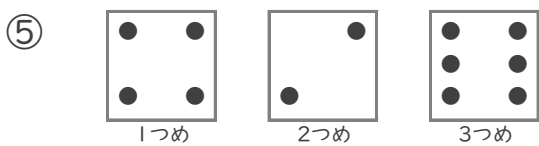
(しき)

たしたこたえ



(しき)

たしたこたえ



(しき)

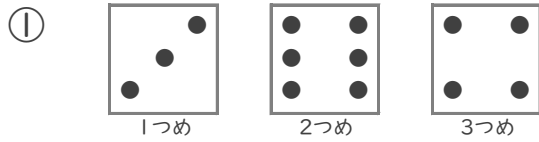
たしたこたえ

3つのかずの たしざん

ねん くみ
なまえ

/ 5

■ 3つのさいころをなげます。3つのさいころの でためのかず をたしましょう。

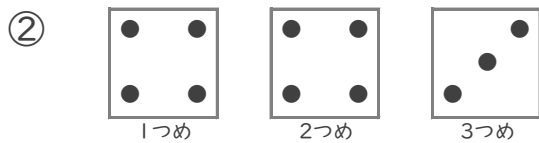


(しき)

$$3 + 6 + 4 = 13$$

たしたこたえ

13

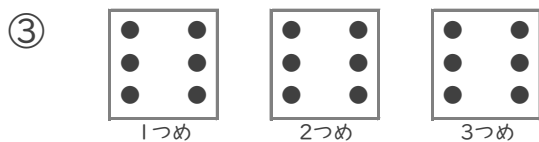


(しき)

$$4 + 4 + 3 = 11$$

たしたこたえ

11

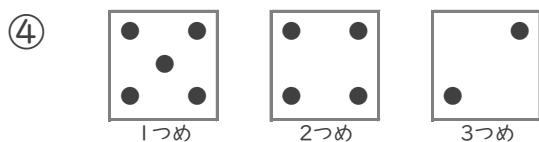


(しき)

$$6 + 6 + 6 = 18$$

たしたこたえ

18

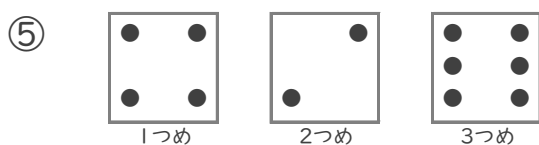


(しき)

$$5 + 4 + 2 = 11$$

たしたこたえ

11



(しき)

$$4 + 2 + 6 = 12$$

たしたこたえ

12