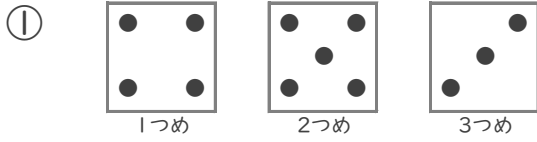


3つのかずの たしざん

ねん ぐみ
なまえ

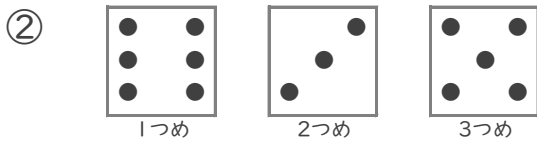
/ 5

■ 3つのさいころをなげます。3つのさいころの でためのかず をたしましょう。



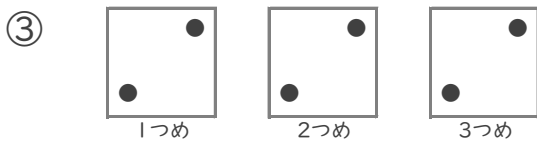
(しき)

たしたこたえ



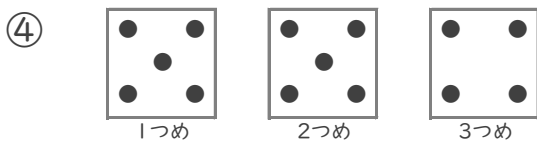
(しき)

たしたこたえ



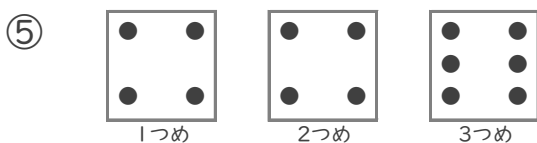
(しき)

たしたこたえ



(しき)

たしたこたえ



(しき)

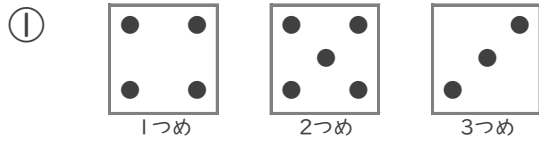
たしたこたえ

3つのかずの たしざん

ねん くみ
なまえ

/ 5

■ 3つのさいころをなげます。3つのさいころの でためのかず をたしましょう。

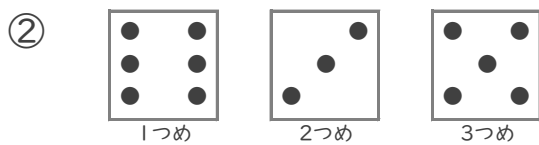


(しき)

$$4 + 5 + 3 = 12$$

たしたこたえ

12

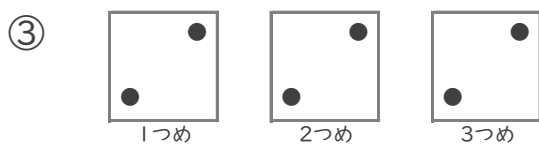


(しき)

$$6 + 3 + 5 = 14$$

たしたこたえ

14

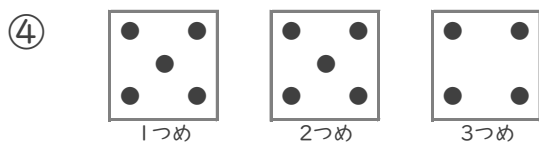


(しき)

$$2 + 2 + 2 = 6$$

たしたこたえ

6

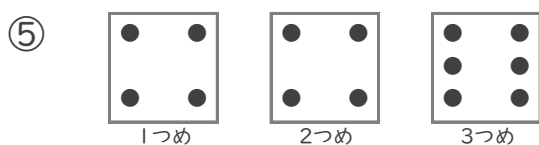


(しき)

$$5 + 5 + 4 = 14$$

たしたこたえ

14



(しき)

$$4 + 4 + 6 = 14$$

たしたこたえ

14