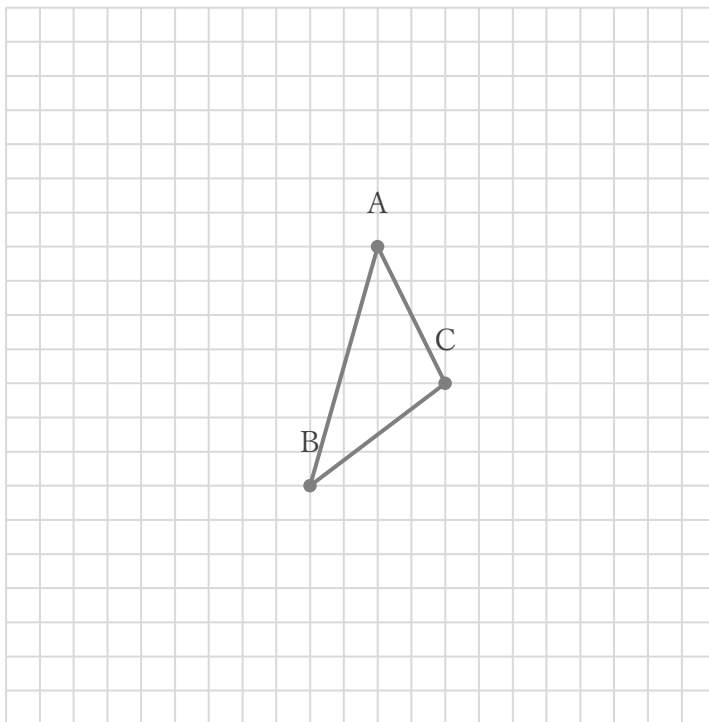


三角形の平行移動

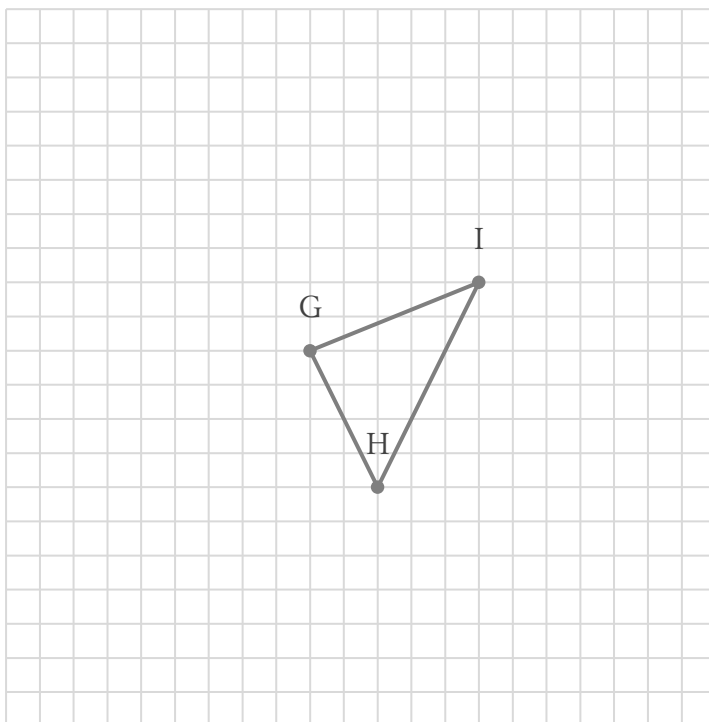
年 組 名前

/ 2

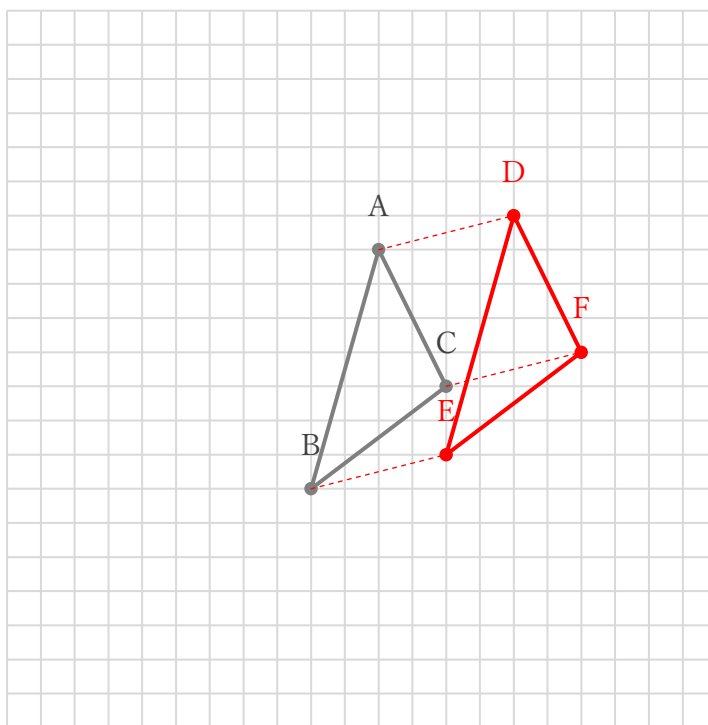
① 下の $\triangle ABC$ を、右に 4、上に 1 だけ平行移動してできる $\triangle DEF$ をかきなさい。



② 下の $\triangle GHI$ を、左に 2、下に 3 だけ平行移動してできる $\triangle JKL$ をかきなさい。



① 下の $\triangle ABC$ を、右に 4、上に 1 だけ平行移動してできる $\triangle DEF$ をかきなさい。



② 下の $\triangle GHI$ を、左に 2、下に 3 だけ平行移動してできる $\triangle JKL$ をかきなさい。

